

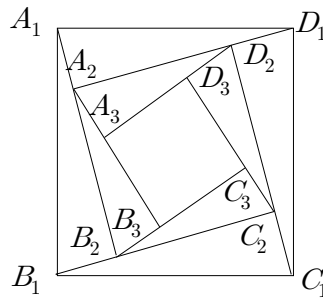
패턴 12

무한등비급수+도형

편집:우에노리에

1. **2005 교육청(3점)**

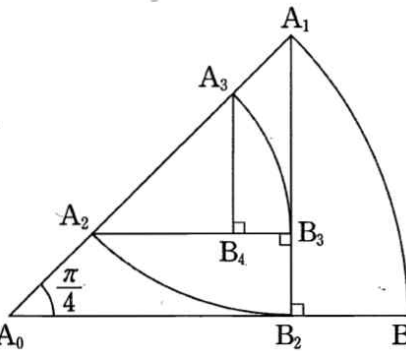
그림과 같이 한 변의 길이가 1 인 정사각형 $A_1B_1C_1D_1$ 내부에 합동인 4 개의 직각삼각형의 넓이의 합과 정사각형 $A_2B_2C_2D_2$ 의 넓이가 같도록 만들고, 정사각형 $A_2B_2C_2D_2$ 내부에 같은 방법으로 정사각형 $A_3B_3C_3D_3$ 을 만든다. 이와 같은 과정을 한없이 반복하여 만들어진 정사각형 $A_nB_nC_nD_n$ 의 넓이를 S_n 이라 할 때, 무한급수 $\sum_{n=1}^{\infty} S_n$ 의 합은?



- ① 2 ② $\frac{9}{4}$ ③ $\frac{5}{2}$ ④ $\frac{11}{4}$ ⑤ 3

2. **2010 평가원(3점)**

그림과 같이 반지름의 길이가 4이고 중심각의 크기가 $\frac{\pi}{4}$ 인 부채꼴 $A_0A_1B_1$ 이 있다. 점 A_1 에서 선분 A_0B_1 에 내린 수선의 발을 B_2 라 하고, 선분 A_0A_1 위의 $\overline{A_1B_2} = \overline{A_1A_2}$ 인 점 A_2 에 대하여 중심각의 크기가 $\frac{\pi}{4}$ 인 부채꼴 $A_1A_2B_2$ 를 그린다. 점 A_2 에서 선분 A_1B_2 에 내린 수선의 발을 B_3 이라 하고, 선분 A_1A_2 위의 $\overline{A_2B_3} = \overline{A_2A_3}$ 인 점 A_3 에 대하여 중심각의 크기가 $\frac{\pi}{4}$ 인 부채꼴 $A_2A_3B_3$ 을 그린다. 이와 같은 과정을 계속하여 점 A_n 에서 선분 $A_{n-1}B_n$ 에 내린 수선의 발을 B_{n+1} 이라 하고, 선분 $A_{n-1}A_n$ 위의 $\overline{A_nB_{n+1}} = \overline{A_nA_{n+1}}$ 인 점 A_{n+1} 에 대하여 중심각의 크기가 $\frac{\pi}{4}$ 인 부채꼴 $A_nA_{n+1}B_{n+1}$ 을 그린다. 부채꼴 $A_{n-1}A_nB_n$ 의 호 A_nB_n 의 길이를 l_n 이라 할 때, $\sum_{n=1}^{\infty} l_n$ 의 값은?



- ① $(4 - \sqrt{2})\pi$ ② $(2 + \sqrt{2})\pi$ ③ $(2 + 2\sqrt{2})\pi$
 ④ $(4 + \sqrt{2})\pi$ ⑤ $(4 + 2\sqrt{2})\pi$

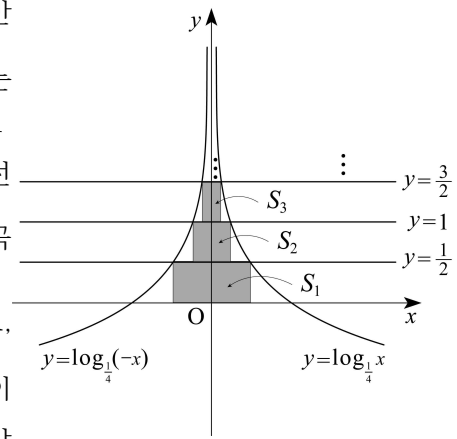
3.

2007

평가원(3점)

두 곡선 $y = \log_{\frac{1}{4}}(-x)$, $y = \log_{\frac{1}{4}}x$ 가 직선 $y = \frac{1}{2}$ 과 만나는 두 점을 꼭지점으로 하고, 한 변이 x 축 위에 있는 직사각형의 넓이를 S_1 이라 하자. 두 곡선이 직선 $y = 1$ 과 만나는 두 점을 꼭지점으로 하고, 한 변이 직선 $y = \frac{1}{2}$ 위에 있는 직사각형의 넓이를 S_2 라 하자. 두 곡선이 직선 $y = \frac{3}{2}$ 과 만나는 두 점을 꼭지점으로 하고, 한 변이 직선 $y = 1$ 위에 있는 직사각형의 넓이를 S_3 이라 하자. 위와 같은 과정을 계속하여 얻은 n 번째 직사각

형의 넓이를 S_n 이라 할 때, $\sum_{n=1}^{\infty} S_n$ 의 값은?



① $\frac{5}{8}$

② $\frac{3}{4}$

③ $\frac{7}{8}$

④ 1

⑤ $\frac{9}{8}$

4.

2009

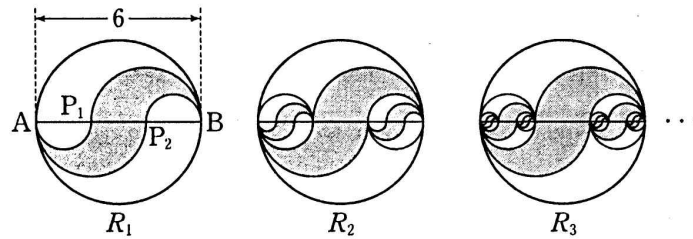
평가원(3점)

그림과 같이 길이가 6인 선분 AB 를 지름으로 하는 원을 그리고, 선분 AB 의 3등분점을 각각 P_1, P_2 라 하고 선분 AP_1 을 지름으로 하는 원의 아래쪽 반원, 선분 AP_2 를 지름으로 하는 원의 아래쪽 반원, 선분 P_2B 를 지름으로 하는 원의 위쪽 반원, 선분 P_1B 를 지름으로 하는 원의 위쪽 반원을 경계로 하여 만든 \cap 모양의 도형에 색칠하여 얻은 그림을 R_1 이라 하자.

그림 R_1 에서 선분 AB 위의 색칠되지 않은 두 선분 AP_1, P_2B 를 각각 지름으로 하는 두 원을 그리고, 이 두 원 안에 각각 그림 R_1 을 얻은 것과 같은 방법으로 만들어지는 두 \cap 모양의 도형에 색칠하여 얻은 그림을 R_2 라 하자.

그림 R_2 에서 두 선분 AP_1, P_2B 위의 색칠되지 않은 네 선분을 각각 지름으로 하는 네 원을 그리고, 이 네 원 안에 각각 그림 R_1 을 얻는 것과 같은 방법으로 만들어지는 네 \cap 모양의 도형에 색칠하여 얻은 그림을 R_3 이라 하자.

이와 같은 과정을 계속하여 n 번째 얻은 그림 R_n 에 색칠되어 있는 모든 \cap 모양의 도형의 넓이의 합을 S_n 이라 할 때, $\lim_{n \rightarrow \infty} S_n$ 의 값은?



① $\frac{25}{7}\pi$

② $\frac{27}{7}\pi$

③ $\frac{29}{7}\pi$

④ $\frac{31}{7}\pi$

⑤ $\frac{33}{7}\pi$

5.

2009

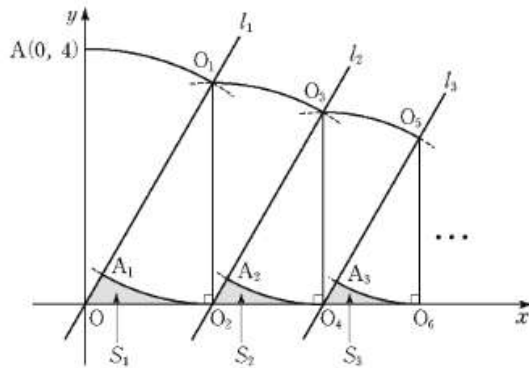
평가원(3점)

그림과 같이 원점 O 를 지나고 기울기가 $\sqrt{3}$ 인 직선 l_1 과 점 $A(0, 4)$ 가 있다.

점 O 를 중심으로 하고 선분 OA 를 반지름으로 하는 원이 직선 l_1 과 제1사분면에서 만나는 점을 O_1 이라 하자. 점 O_1 에서 x 축에 내린 수선의 발을 O_2 라 하자. 점 O_2 을 중심으로 하고 선분 O_1O_2 를 반지름으로 하는 원이 선분 OO_1 과 만나는 점을 A_1 이라 하자. 선분 A_1O , 선분 OO_2 , 호 O_2A_1 로 둘러싸인 도형의 넓이를 S_1 이라 하자.

점 O_2 를 중심으로 하고 선분 O_1O_2 를 반지름으로 하는 원이 점 O_2 를 지나고 직선 l_1 에 평행한 직선 l_2 와 제1사분면에서 만나는 점을 O_3 이라 하자. 점 O_3 에서 x 축에 내린 수선의 발을 O_4 라 하자. 점 O_3 을 중심으로 하고 선분 O_3O_4 를 반지름으로 하는 원이 선분 O_2O_3 과 만나는 점을 A_2 이라 하자. 선분 A_2O_2 , 선분 O_2O_4 , 호 O_4A_2 로 둘러싸인 도형의 넓이를 S_2 이라 하자.

이와 같은 과정을 계속하여 n 번째 얻은 도형의 넓이를 S_n 이라 할 때, $\sum_{n=1}^{\infty} S_n$ 의 값은?



① $4\sqrt{3} - 2\pi$

② $8\sqrt{3} - 4\pi$

③ $4\sqrt{3} - \pi$

④ $8\sqrt{3} - 2\pi$

⑤ $16\sqrt{3} - 4\pi$

6. 2008 평가원(4점)

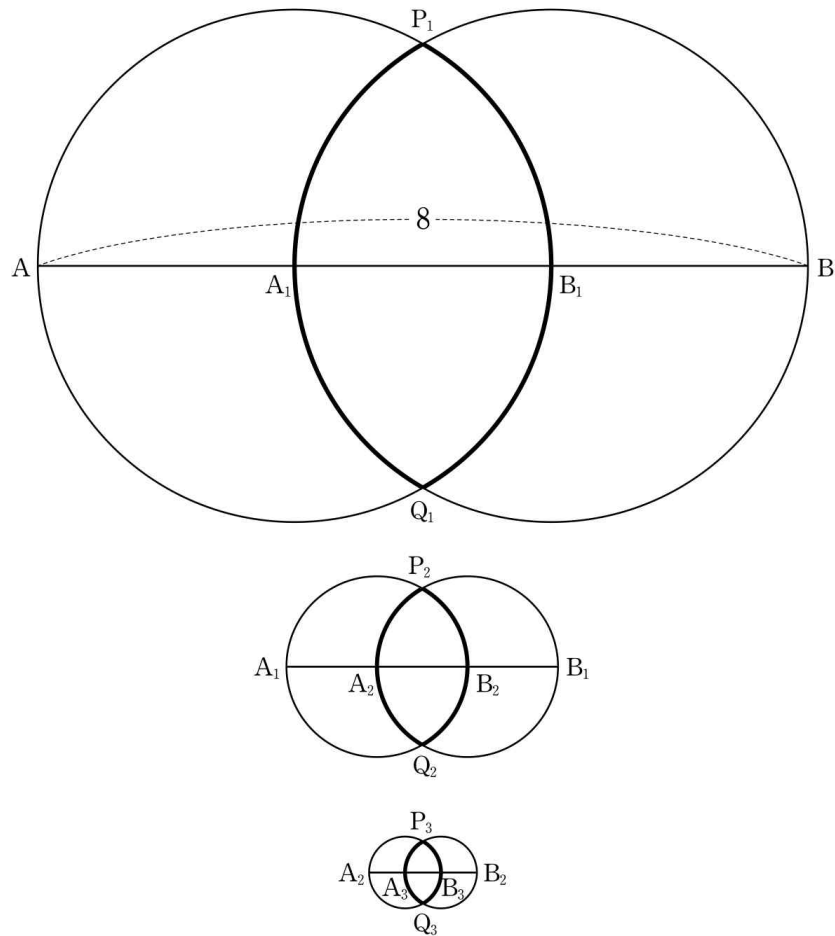
그림과 같이 길이가 8인 선분 AB가 있다.

선분 AB의 삼등분점 A_1, B_1 을 중심으로 하고 선분 A_1B_1 을 반지름으로 하는 두 원이 서로 만나는 두 점을 각각 P_1, Q_1 이라고 하자.

선분 A_1B_1 의 삼등분점 A_2, B_2 를 중심으로 하고 선분 A_2B_2 를 반지름으로 하는 두 원이 서로 만나는 두 점을 각각 P_2, Q_2 라고 하자.

선분 A_2B_2 의 삼등분점 A_3, B_3 을 중심으로 하고 선분 A_3B_3 을 반지름으로 하는 두 원이 서로 만나는 두 점을 각각 P_3, Q_3 이라고 하자.

이와 같은 과정을 계속하여 n 번째 얻은 두 호 $P_nA_nQ_n, P_nB_nQ_n$ 의 길이의 합을 l_n 이라 할 때, $\sum_{n=1}^{\infty} l_n$ 의 값은?



① $\frac{10}{3}\pi$

② 4π

③ $\frac{14}{3}\pi$

④ $\frac{16}{3}\pi$

⑤ 6π

7.

2005

교육청(4점)




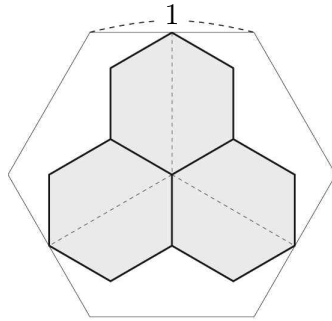
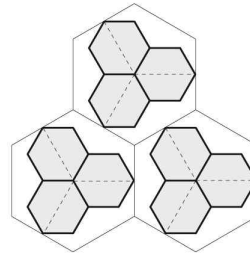
한 변의 길이가 1인 정육각형에서 서로 이웃하지 않는 세 변의 중점과 이 정육각형에 외접하는 원의 중심을 각각 연결하여 세 선분을 얻는다. 이 세 선분을 각각 가장 긴 대각선으로 하는 3개의 정육각형을 그려서 얻은  모양의 그림을 H_1 이라 하고, 그림 H_1 의 넓이를 S_1 이라 하자.

그림 H_1 에서 새로 그려진 세 정육각형 내부에 각각 그림 H_1 을 얻은 것과 같은 방법으로 그려서 얻은 3개의  모양의 그림을 H_2 라 하고, 그림 H_2 의 넓이를 S_2 라 하자.

이와 같은 과정을 계속하여 n 번째 그려서 얻은 3^{n-1} 개의  모양의

그림을 H_n 이라 하고, 그림 H_n 의 넓이를 S_n 이라 할 때, $\sum_{n=1}^{\infty} S_n$ 의 값은?

 H_1  H_2

① $\frac{27}{11} \sqrt{3}$

② $\frac{9}{4} \sqrt{3}$

③ $\frac{27}{13} \sqrt{3}$

④ $\frac{27}{14} \sqrt{3}$

⑤ $\frac{9}{5} \sqrt{3}$

8.

2009

교육청(4점)

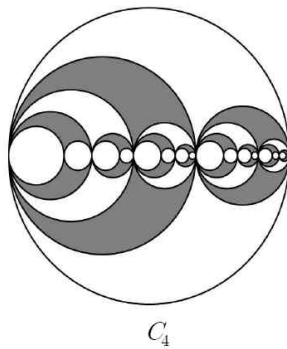
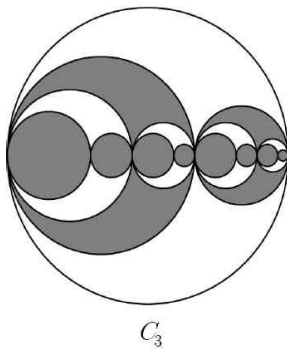
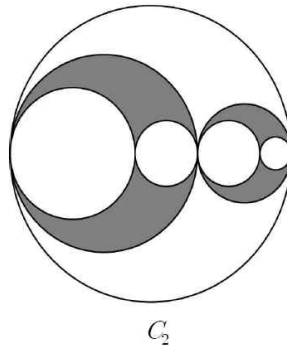
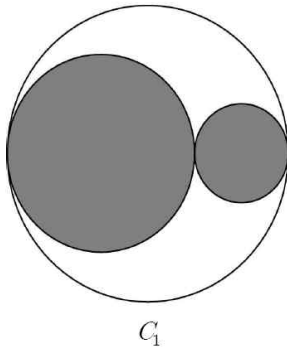
원에 다음 과정을 실행한다.

[과정]

I. 원의 지름을 2:1로 내분하는 점을 잡는다.

II. 이 원에 내접하면서 I의 내분점에서 서로 외접하는 두 개의 원을 그린다.

지름의 길이가 6인 원이 있다. 이 원에 [과정]을 실행하여 그린 2개의 원의 내부를 색칠하여 얻어진 그림을 C_1 이라 하자. 그림 C_1 에서 새로 그려진 2개의 원에 각각 [과정]을 실행하여 그린 4개의 원의 내부를 제외하여 얻어진 그림을 C_2 라 하자. 그림 C_2 에서 새로 그려진 4개의 원에 각각 [과정]을 실행하여 그린 8개의 원의 내부를 색칠하여 얻어진 그림을 C_3 이라 하자. 그림 C_3 에서 새로 그려진 8개의 원에 각각 [과정]을 실행하여 그린 16개의 원의 내부를 제외하여 얻어진 그림을 C_4 라 하자. 이와 같은 방법으로 n 번째 얻어진 그림 C_n 에서 색칠된 부분의 넓이를 S_n 이라 할 때, $\lim_{n \rightarrow \infty} S_n = \frac{q}{p}\pi$ (p 와 q 는 서로소인 자연수)이다. $p+q$ 의 값을 구하시오. (단, 모든 원의 중심은 처음 원의 한 지름 위에 있다.)

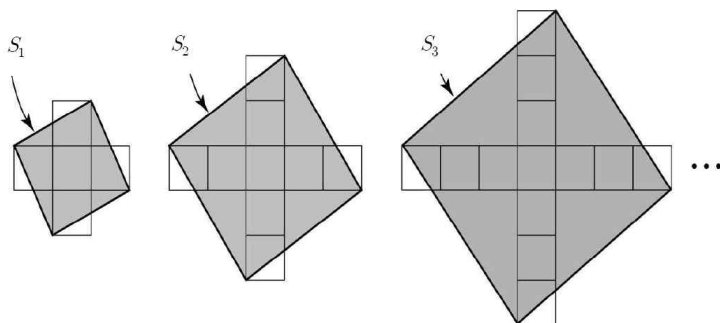


...

9. 2009 교육청(4점)

[그림 1]과 같이 한 개의 넓이가 1인 정사각형 5개로 이루어진 卐 모양의 도형에서 네 꼭짓점을 연결하여 만든 정사각형의 넓이를 S_1 이라 하자. [그림 2]와 같이 [그림 1]의 卐 모양의 도형에 한 개의 넓이가 1인 정사각형 4개를 붙여 만든 卐 모양의 도형에서 네 꼭짓점을 연결하여 만든 정사각형의 넓이를 S_2 라 하자. [그림 3]과 같이 [그림 2]의 卐 모양의 도형에 한 개의 넓이가 1인 정사각형 4개를 붙여 만든 卐 모양의 도형에서 네 꼭짓점을 연결하여 만든 정사각형의 넓이를 S_3 이라 하자. 이와 같은 과정을 계속하여 n 번째 얻어진 卐 모양의

도형에서 네 꼭짓점을 연결하여 만든 정사각형의 넓이를 S_n 이라 할 때, $\lim_{n \rightarrow \infty} \frac{10S_n}{n^2}$ 의 값을 구하시오.



[그림 1]

[그림 2]

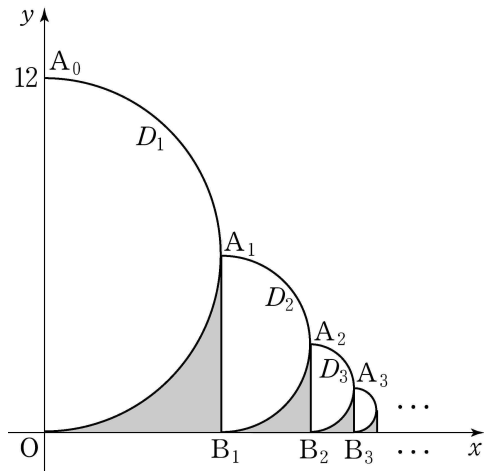
[그림 3]

11.

2005

교육청(4점)

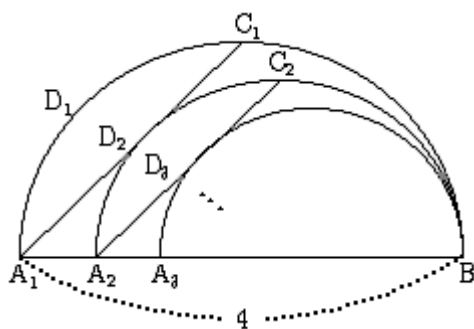
그림과 같이 원점과 점 $A_0(0, 12)$ 를 지름의 양 끝점으로 하는 원의 오른쪽 반원을 D_1 이라 하자. 원점을 지나고 기울기가 1인 직선이 D_1 과 제 1사분면에서 만나는 점을 A_1 , 점 A_1 에서 x 축에 내린 수선의 발을 B_1 이라 하고, 반원 D_1 , x 축, 선분 A_1B_1 으로 둘러싸인 도형의 넓이를 S_1 이라 하자. 선분 A_1B_1 을 지름으로 하는 원의 오른쪽 반원을 D_2 라 하자. 점 B_1 을 지나고 기울기가 1인 직선이 D_2 와 제 1사분면에서 만나는 점을 A_2 , 점 A_2 에서 x 축에 내린 수선의 발을 B_2 라 하고, 반원 D_2 , x 축, 선분 A_2B_2 로 둘러싸인 도형의 넓이를 S_2 라 하자. 이와 같은 과정을 계속하여 n 번째 얻은 도형의 넓이를 S_n 이라 할 때, $\sum_{n=1}^{\infty} S_n$ 의 값은?



- ① $9(4 - \pi)$ ② $12(4 - \pi)$
 ③ $15(4 - \pi)$ ④ $4(8 - \pi)$
 ⑤ $6(8 - \pi)$

12. 2006 교육청(4점)

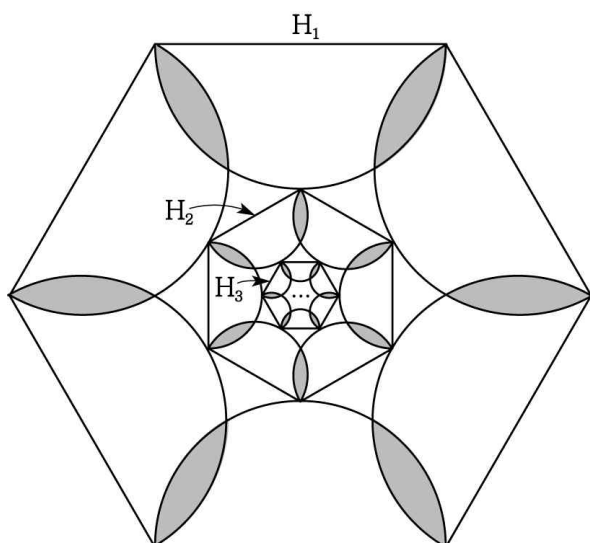
그림과 같이 길이가 4인 선분 A_1B 를 지름으로 하는 반원 D_1 이 있다. 호 A_1B 를 이등분하는 점을 C_1 , 점 B 를 지나면서 선분 A_1C_1 과 접하고 중심이 선분 A_1B 위에 있는 반원을 D_2 , 반원 D_2 가 선분 A_1B 와 만나는 점을 A_2 라 하자. 호 A_2B 를 이등분하는 점을 C_2 , 점 B 를 지나면서 선분 A_2C_2 과 접하고 중심이 선분 A_1B 위에 있는 반원을 D_3 , 반원 D_3 이 선분 A_1B 와 만나는 점을 A_3 이라 하자. 이와 같은 과정을 계속하여 얻은 반원 D_n 의 호의 길이를 l_n 이라 할 때, $\sum_{n=1}^{\infty} l_n$ 의 값은?



- ① $2(1 + \sqrt{2})\pi$ ② $2(2 + \sqrt{2})\pi$
 ③ $2(3 + \sqrt{2})\pi$ ④ $2(2 + 2\sqrt{2})\pi$
 ⑤ $2(3 + 2\sqrt{2})\pi$

13. 2009 교육청(4점)

그림과 같이 정육각형 H_1 의 각 변을 지름으로 하는 반원을 정육각형 H_1 의 내부에 그리고, 반원이 겹쳐지는 어두운 부분의 넓이의 합을 S_1 , 각 반원의 호의 길이를 이등분하는 점을 꼭짓점으로 하는 정육각형을 H_2 라 하자. 정육각형 H_2 의 각 변을 지름으로 하는 반원을 정육각형 H_2 의 내부에 그리고, 반원이 겹쳐지는 어두운 부분의 넓이의 합을 S_2 , 각 반원의 호의 길이를 이등분하는 점을 꼭짓점으로 하는 정육각형을 H_3 이라 하자. 이와 같은 방법으로 정육각형 H_n 의 각 변을 지름으로 하는 반원을 정육각형 H_n 의 내부에 그리고, 반원이 겹쳐지는 어두운 부분의 넓이의 합을 S_n , 각 반원의 호의 길이를 이등분하는 점을 꼭짓점으로 하는 정육각형을 H_{n+1} 이라 하자. 이때, $\sum_{n=1}^{\infty} S_n$ 의 값을 S_1 을 이용하여 나타낸 것은?

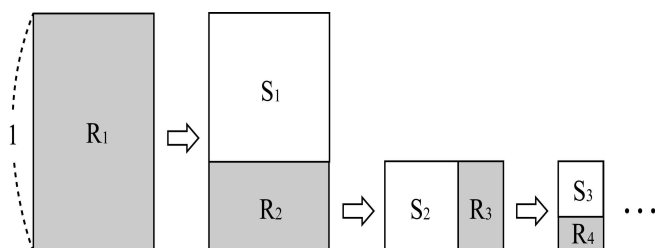


- ① $\frac{2\sqrt{3}}{3} S_1$ ② $\frac{3-\sqrt{3}}{3} S_1$ ③ $\frac{4\sqrt{3}}{3} S_1$
 ④ $\frac{3+\sqrt{3}}{3} S_1$ ⑤ $2\sqrt{3} S_1$

14. **2006** **평가원(4점)**

직사각형 중에서 짧은 변을 한 변으로 하는 정사각형을 잘라내고 남은 직사각형이 처음의 직사각형과 서로 닮음이 되는 것을 황금직사각형이라고 한다. 그림과 같이 긴 변의 길이가 1인 황금직사각형 R_1 에서 짧은 변을 한 변으로 하는 정사각형 S_1 을 잘라내고 남은 직사각형을 R_2 , 직사각형 R_2 에서 정사각형 S_2 를 잘라내고 남은 직사각형을 R_3 이라고 하자. 이와 같은 방법으로 직사각형 R_4, R_5, R_6, \dots 을 한없이 만들어 간다. 직사각형

R_n ($n = 1, 2, 3, \dots$)의 둘레의 길이 l_n 에 대하여 $\sum_{n=1}^{\infty} l_n = k l_1$ 일 때, 상수 k 의 값은?



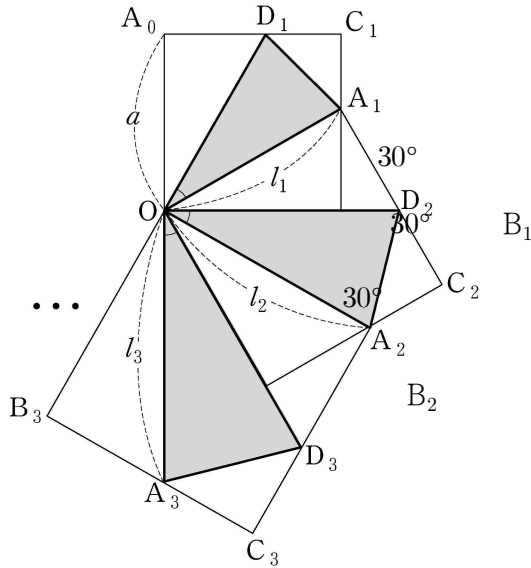
- ① $\frac{3-\sqrt{5}}{2}$ ② $\frac{3+\sqrt{5}}{2}$ ③ $\frac{5-\sqrt{5}}{2}$
 ④ $3-\sqrt{5}$ ⑤ $3+\sqrt{5}$

15.

2006

평가원(4점)

그림과 같이 한 변의 길이가 a 인 정사각형 $OB_1C_1A_0$ 이 있다. 삼각형 OA_1D_1 이 $\angle D_1OA_1 = 30^\circ$ 인 이등변삼각형이 되도록 변 B_1C_1 , A_0C_1 위에 각각 점 A_1 , D_1 을 잡고 변 OA_1 의 길이를 l_1 이라 하자. 선분 OA_1 을 한 변으로 하는 정사각형 $OB_2C_2A_1$ 에서 삼각형 OA_2D_2 가 $\angle D_2OA_2 = 30^\circ$ 인 이등변삼각형이 되도록 변 B_2C_2 , A_1C_2 위에 각각 점 A_2 , D_2 를 잡고 변 OA_2 의 길이를 l_2 라 하자. 선분 OA_2 를 한 변으로 하는 정사각형 $OB_3C_3A_2$ 에서 삼각형 OA_3D_3 이 $\angle D_3OA_3 = 30^\circ$ 인 이등변삼각형이 되도록 변 B_3C_3 , A_2C_3 위에 각각 점 A_3 , D_3 을 잡고 변 OA_3 의 길이를 l_3 이라 하자. 이와 같은 과정을 계속하여 얻은 이등변삼각형 OA_nD_n 에서 변 OA_n 의 길이를 l_n 이라 하자. $\sum_{n=1}^{\infty} \frac{1}{l_n} = \sqrt{3}$ 일 때, a 의 값은?



① $\sqrt{3}$

② $1 + \sqrt{3}$

③ $2 + \sqrt{3}$

④ $3 + \sqrt{3}$

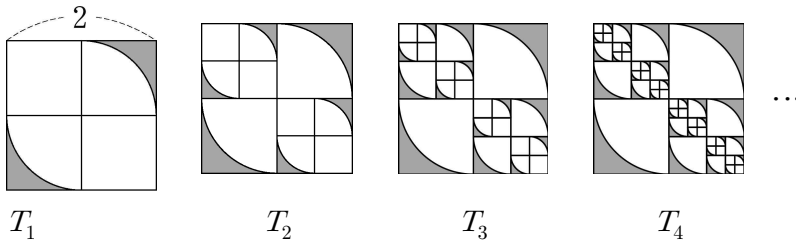
⑤ $6 + \sqrt{3}$

16.

2006

평가원(4점)

그림과 같이 한 변의 길이가 2인 정사각형을 넓이가 같은 4개의 정사각형으로 나누고 반지름의 길이가 1인 사분원 2개의 외부(어두운 부분)를 잘라낸 후 남은 도형을 T_1 이라 하자. T_1 에서 한 변의 길이가 1인 정사각형 2개를 각각 넓이가 같은 4개의 정사각형으로 나누고 반지름의 길이가 $\frac{1}{2}$ 인 사분원 4개의 외부(어두운 부분)를 잘라낸 후 남은 도형을 T_2 라 하자. T_2 에서 한 변의 길이가 $\frac{1}{2}$ 인 정사각형 4개를 각각 넓이가 같은 4개의 정사각형으로 나누고 반지름의 길이가 $\frac{1}{4}$ 인 사분원 8개의 외부(어두운 부분)를 잘라낸 후 남은 도형을 T_3 이라 하자. 이와 같은 과정을 계속하여 n 번째 얻은 도형을 T_n 이라 하고 그 넓이를 S_n 이라 할 때, $\lim_{n \rightarrow \infty} S_n$ 의 값은?



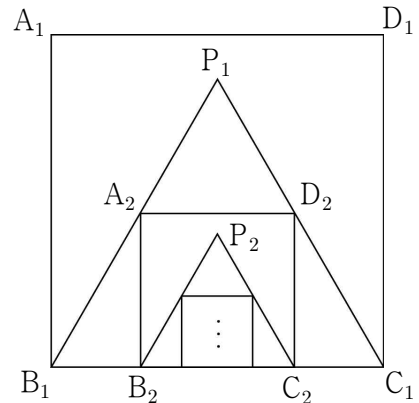
- ① $\frac{\pi}{2}$ ② $\frac{2}{3}\pi$ ③ $\frac{3}{4}\pi$
 ④ π ⑤ $\frac{5}{4}\pi$

17.

2007

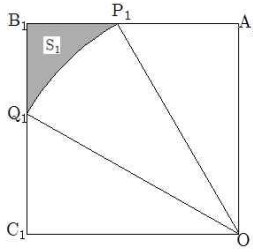
교육청(4점)

그림과 같이 한 변의 길이가 4인 정사각형 $A_1B_1C_1D_1$ 이 있다. 정사각형 $A_1B_1C_1D_1$ 의 내부에 선분 B_1C_1 을 한 변으로 하는 정삼각형 $P_1B_1C_1$ 을 만든다. 다시 선분 B_1C_1 위에 정삼각형 $P_1B_1C_1$ 에 내접하는 정사각형 $A_2B_2C_2D_2$ 를 만든다. 이와 같은 방법으로 만들어지는 정사각형 $A_nB_nC_nD_n$ 의 넓이를 S_n 이라 할 때, $\sum_{n=1}^{\infty} S_n$ 의 값은?

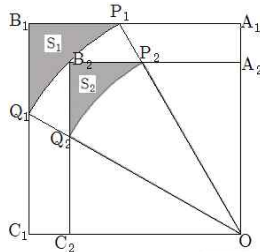


- ① $4\sqrt{3}+15$ ② $5\sqrt{3}+10$ ③ $5\sqrt{3}+25$
 ④ $6\sqrt{3}+5$ ⑤ $6\sqrt{3}+10$

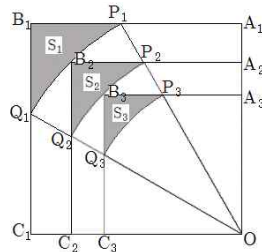
그림과 같이 한 변의 길이가 1인 정사각형 $OA_1B_1C_1$ 에서 $\angle O$ 의 3등분선이 $\overline{A_1B_1}$, $\overline{B_1C_1}$ 과 만나는 점을 각각 P_1 , Q_1 이라 하자. 점 O 가 중심이고 $\overline{OP_1}$ 을 반지름으로 하는 부채꼴 OP_1Q_1 을 그린다. [그림1]에서 도형 $B_1Q_1P_1$ 의 넓이를 S_1 이라 하자. 호 P_1Q_1 의 중점 B_2 , $\overline{OA_1} \parallel \overline{C_2B_2}$ 인 $\overline{OC_1}$ 위의 점 C_2 , $\overline{OC_1} \parallel \overline{A_2B_2}$ 인 $\overline{OA_1}$ 위의 점 A_2 , 점 O 를 꼭지점으로 하는 정사각형 $OA_2B_2C_2$ 를 그린다. $\overline{OP_1}$ 과 $\overline{A_2B_2}$ 가 만나는 점을 P_2 , $\overline{OQ_1}$ 과 $\overline{B_2C_2}$ 가 만나는 점을 Q_2 라 하자. 점 O 가 중심이고 $\overline{OP_2}$ 을 반지름으로 하는 부채꼴 OP_2Q_2 를 그린다. [그림2]에서 도형 $B_2Q_2P_2$ 의 넓이를 S_2 라 하자. 이와 같은 과정을 계속할 때, $\sum_{n=1}^{\infty} S_n$ 의 합은?



[그림1]



[그림2]

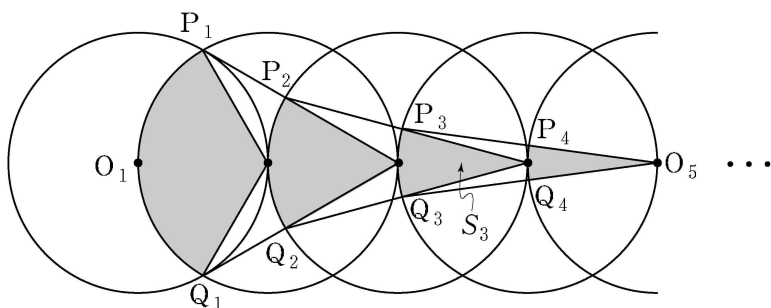


[그림3] ...

- ① $-3 + \pi$ ② $4 - \pi$ ③ $\sqrt{3} - \frac{\pi}{3}$
- ④ $3 - \sqrt{3} - \frac{\pi}{3}$ ⑤ $4 - \sqrt{3} - \frac{\pi}{2}$

19. 2007 평가원(4점)

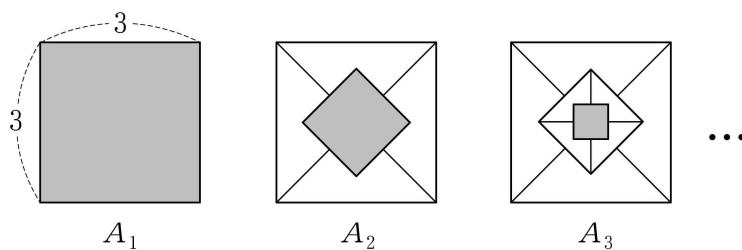
그림과 같이 반지름의 길이가 1이고 중심이 O_1, O_2, O_3, \dots 인 원들이 있다. 모든 원들의 중심은 한 직선 위에 있고, $\overline{O_n O_{n+1}} = 1 (n=1, 2, 3, \dots)$ 이다. 두 원 O_1, O_2 가 만나는 두 점을 각각 P_1, Q_1 이라 하고, 부채꼴 $O_2 P_1 Q_1$ 의 넓이를 S_1 이라 하자. 두 점 P_1, Q_1 에서 원 O_3 의 중심과 연결한 선분이 원 O_3 과 만나는 두 점을 각각 P_2, Q_2 라 하고, 부채꼴 $O_3 P_2 Q_2$ 의 넓이를 S_2 라 하자. 두 점 P_2, Q_2 에서 원 O_4 의 중심과 연결한 선분이 원 O_4 와 만나는 두 점을 각각 P_3, Q_3 이라 하고, 부채꼴 $O_4 P_3 Q_3$ 의 넓이를 S_3 이라 하자. 이와 같은 과정을 계속하여 n 번째 얻은 부채꼴 $O_{n+1} P_n Q_n$ 의 넓이를 S_n 이라 할 때, $\sum_{n=1}^{\infty} S_n$ 의 값은?



- ① $\frac{\pi}{2}$ ② $\frac{2}{3}\pi$ ③ $\frac{5}{6}\pi$ ④ π ⑤ $\frac{7}{6}\pi$

20. 2007 평가원(4점)

그림과 같이 한 변의 길이가 3인 정사각형을 A_1 , 그 넓이를 S_1 이라 하자. 정사각형 A_1 에 대각선을 그어 만들어진 4개의 삼각형의 무게중심을 연결한 정사각형을 A_2 , 그 넓이를 S_2 라 하자. 같은 방법으로 정사각형 A_2 에 대각선을 그어 만들어진 4개의 삼각형의 무게중심을 연결한 정사각형을 A_3 , 그 넓이를 S_3 이라 하자. 이와 같은 과정을 계속하여 $(n-1)$ 번째 얻은 정사각형을 A_n , 그 넓이를 S_n 이라 할 때, $\sum_{n=1}^{\infty} S_n$ 의 값은?



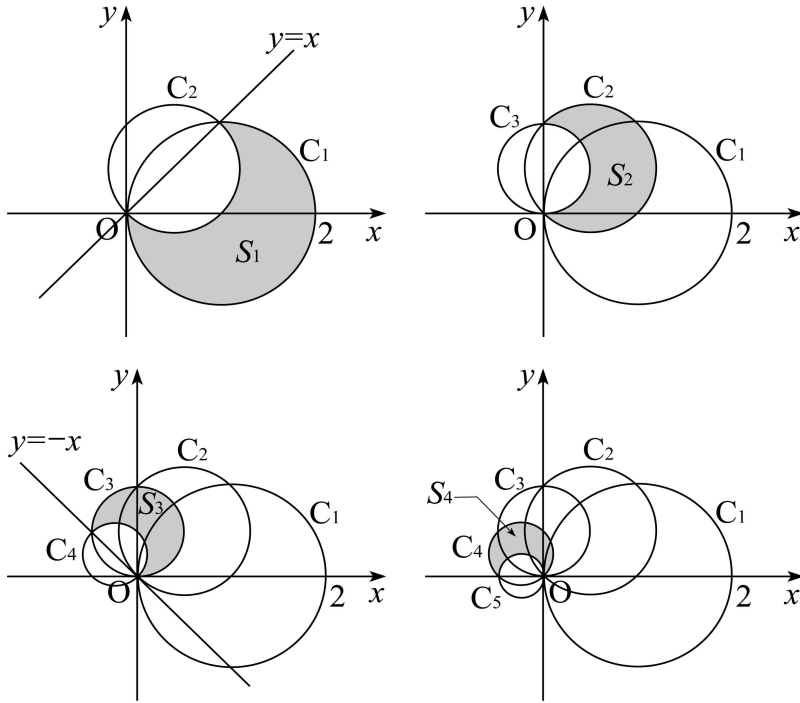
- ① $\frac{64}{7}$ ② $\frac{21}{2}$ ③ $\frac{72}{7}$
- ④ $\frac{27}{2}$ ⑤ $\frac{81}{7}$

21.

2008

교육청(4점)

그림과 같이 원점 O 와 점 $(2, 0)$ 을 지름의 양 끝으로 하는 원을 C_1 이라 하자. 또, 원 C_1 과 직선 $y = x$ 가 만나는 두 점을 지름의 양 끝으로 하는 원을 C_2 , 원 C_2 와 y 축이 만나는 두 점을 지름의 양 끝으로 하는 원을 C_3 이라 하자. 또, 원 C_3 과 직선 $y = -x$ 가 만나는 두 점을 지름의 양 끝으로 하는 원을 C_4 , 원 C_4 와 x 축이 만나는 두 점을 지름의 양 끝으로 하는 원을 C_5 라 하자.



이와 같은 방법으로 중심이 차례로 직선 $y = x$, y 축, 직선 $y = -x$, x 축, \dots 위에 있는 원 C_6 , C_7 , C_8 , C_9 , \dots 를 한없이 만들어 갈 때, 원 C_n 의 내부와 원 C_{n+1} 의 외부의 공통부분 (어두운 부분)의 넓이를 S_n ($n = 1, 2, 3, \dots$)이라 하자.

이때 $\sum_{n=1}^{\infty} S_n$ 의 값은?

- ① $\pi + 1$ ② $\frac{3}{2}\pi$ ③ $\frac{5}{4}(\pi + 1)$
- ④ $\frac{3}{2}(\pi + 1)$ ⑤ 2π

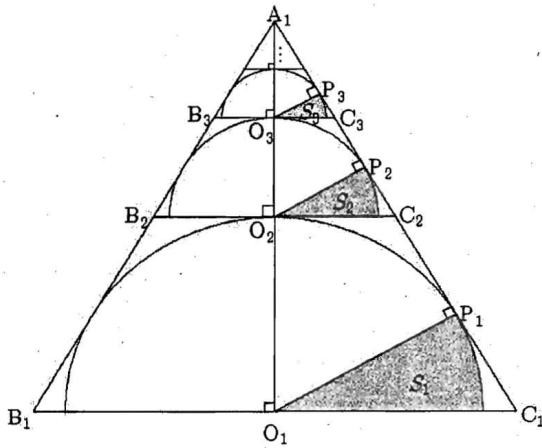
22.

2008

교육청(4점)

그림과 같이 한 변의 길이가 2인 정삼각형 $A_1B_1C_1$ 이 있다. 선분 B_1C_1 의 중점 O_1 을 중심으로 삼각형 $A_1B_1C_1$ 에 접하는 반원과 선분 A_1C_1 의 교점이 P_1 일 때, 선분 O_1P_1 은 반원의 내부를 부채꼴 두 개로 나눈다. 그 중 작은 부채꼴(어두운 부분)의 넓이를 S_1 이라 한다.

선분 A_1O_1 과 반원의 교점을 O_2 라 두고 점 O_2 를 접점으로 하는 접선과 선분 A_1B_1 , 선분 A_1C_1 과 만나는 점은 각각 B_2 , C_2 이다. 정삼각형 $A_1B_2C_2$ 에서 점 O_2 를 중심으로 삼각형 $A_1B_2C_2$ 에 접하는 새로운 반원과 선분 A_1C_2 의 교점이 P_2 일 때, 선분 O_2P_2 는 반원의 내부를 부채꼴 두 개로 나눈다. 그 중 작은 부채꼴(어두운 부분)의 넓이를 S_2 라 한다.



이와 같은 과정을 계속하여 n 번째 얻어진 부채꼴의 넓이를 S_n 이라 할 때, $\sum_{n=1}^{\infty} S_n$ 의 값은?

① $\frac{\pi}{2}$

② $\frac{\pi}{3}$

③ $\frac{\pi}{4}$

④ $\frac{\pi}{6}$

⑤ $\frac{\pi}{12}$

23.

2009

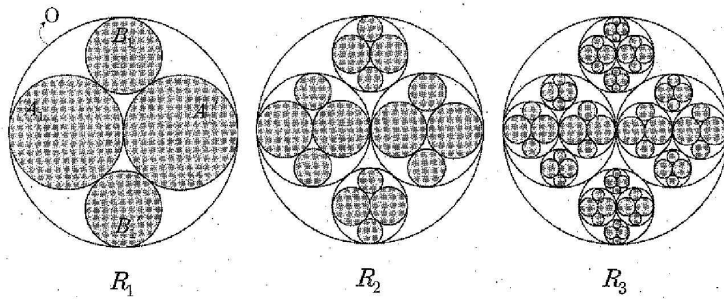
교육청(4점)

반지름의 길이가 1인 원 O 가 있다.

원 O 의 중심에서 서로 외접하고 원 O 에 내접하는 두 원 A_1, A_1' 을 그린 후 두 원 A_1 과 A_1' 에 외접하며 원 O 에 내접하는 두 원 B_1, B_1' 을 그려서 얻은 그림을 R_1 이라 하자. 새로 그려진 네 원 A_1, A_1', B_1, B_1' 의 내부에 그림 R_1 의 제작과정을 반복하여 얻은 그림을 R_2 라 하자. 이와 같은 과정을 계속하여 n 번째 얻어진 그림을 R_n 이라 하자.

또한, 그림 $R_1, R_2, \dots, R_n, \dots$ 각각에 아래와 같이 어둡게 색칠을 하자. 그림 R_n 의 어두운

부분의 넓이의 합을 S_n 이라 할 때, $\sum_{n=1}^{\infty} S_n$ 의 값은?



① π

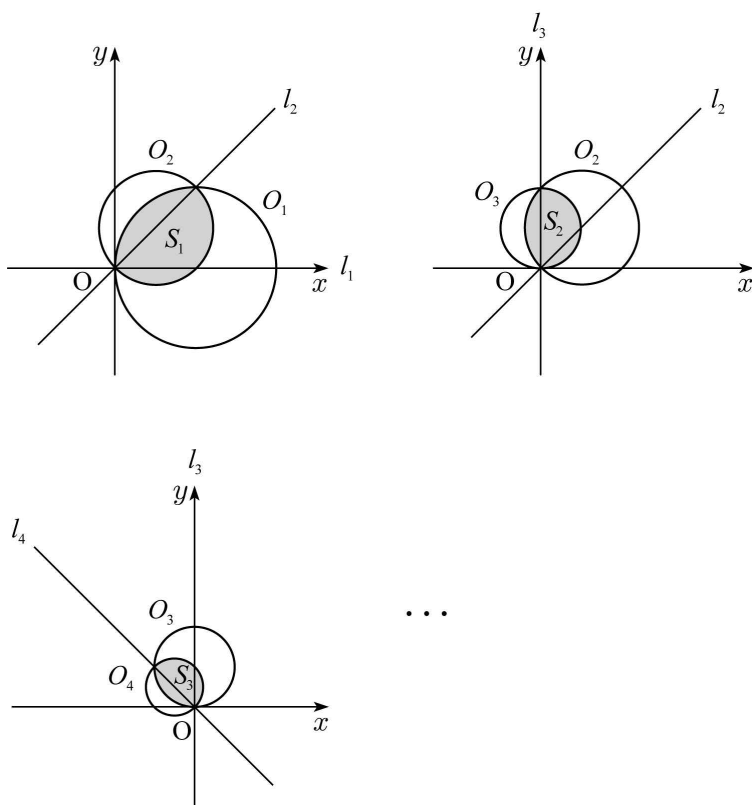
② $\frac{9}{5}\pi$

③ $\frac{13}{5}\pi$

④ $\frac{17}{5}\pi$

⑤ $\frac{21}{5}\pi$

좌표평면에서 점 $(3, 0)$ 을 중심으로 하고 반지름의 길이가 3인 원을 O_1 이라 하고, x 축을 직선 l_1 이라 하자. 직선 l_1 을 원점을 중심으로 45° 만큼 회전시킨 직선을 l_2 라 하고, 직선 l_2 와 원 O_1 의 두 교점을 지름의 양 끝점으로 하는 원을 O_2 라 할 때, 두 원 O_1, O_2 의 공통부분의 넓이를 S_1 이라 하자. 직선 l_2 를 원점을 중심으로 하여 45° 만큼 회전시킨 직선을 l_3 이라 하고, 직선 l_3 과 원 O_2 의 두 교점을 지름의 양 끝점으로 하는 원을 O_3 이라 할 때, 두 원 O_2, O_3 의 공통부분의 넓이를 S_2 라 하자. 직선 l_3 을 원점을 중심으로 하여 45° 만큼 회전시킨 직선을 l_4 라 하고, 직선 l_4 과 원 O_3 의 두 교점을 지름의 양 끝점으로 하는 원을 O_4 라 할 때, 두 원 O_3, O_4 의 공통부분의 넓이를 S_3 이라 하자.



이와 같은 과정을 계속하여 n 번째 얻은 부분의 넓이를 S_n 이라 할 때, $\sum_{n=1}^{\infty} S_n$ 의 값은?

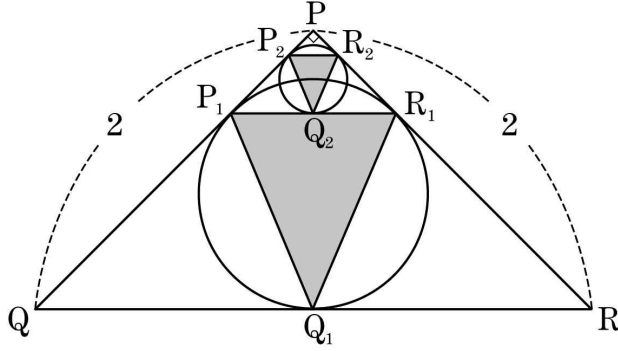
- ① $6(\pi-1)$ ② $7(\pi-1)$ ③ $8(\pi-1)$
 ④ $9(\pi-1)$ ⑤ $10(\pi-1)$

25.

2011

교육청(4점)

그림과 같이 $\overline{PQ} = \overline{PR} = 2$ 이고 $\angle QPR = 90^\circ$ 인 삼각형 PQR 의 내접원과 세 변 PQ , QR , RP 의 접점을 각각 P_1 , Q_1 , R_1 이라 하자. 또, 삼각형 PP_1R_1 의 내접원과 세 변 PP_1 , P_1R_1 , R_1P 의 접점을 각각 P_2 , Q_2 , R_2 라 하자.



이와 같은 과정을 계속하여 n 번째 얻은 세 점 P_n , Q_n , R_n 을 꼭짓점으로 하는 삼각형 $P_nQ_nR_n$ 의 넓이를 S_n 이라 할 때, $\sum_{n=1}^{\infty} S_n = p + q\sqrt{2}$ 를 만족시키는 두 유리수 p, q 의 합 $p+q$ 의 값은?

① $\frac{1}{7}$

② $\frac{2}{7}$

③ $\frac{3}{7}$

④ $\frac{4}{7}$

⑤ $\frac{5}{7}$

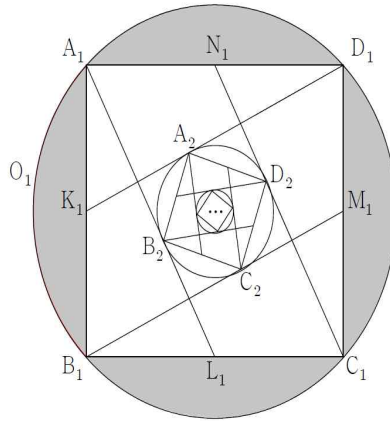
26.

2011

교육청(4점)

반지름의 길이가 1 인 원 O_1 이 있다. 그림과 같이 원 O_1 과 원 O_2 에 내접하는 정사각형 $A_1B_1C_1D_1$ 로 둘러싸인 부분의 넓이를 S_1 이라 하자. 그림과 같이 선분 B_1C_1 , C_1D_1 , D_1A_1 , A_1B_1 의 각각의 중점 L_1 , M_1 , N_1 , K_1 에 대하여, 네 개의 선분 A_1L_1 , B_1M_1 , C_1N_1 , D_1K_1 의 교점을 꼭짓점으로 하는 사각형에 내접하는 원을 O_2 라 하자. 원 O_2 와 원 O_1 에 내접하는 정사각형 $A_2B_2C_2D_2$ 로 둘러싸인 부분의 넓이를 S_2 라 하자. 이와 같은 과정을 계속하여

얻은 S_n 에 대하여 $\sum_{n=1}^{\infty} S_n$ 의 값은?



① $\frac{3(\pi-2)}{2}$

② $\frac{4(\pi-2)}{3}$

③ $\frac{5(\pi-2)}{4}$

④ $\frac{7(\pi-2)}{6}$

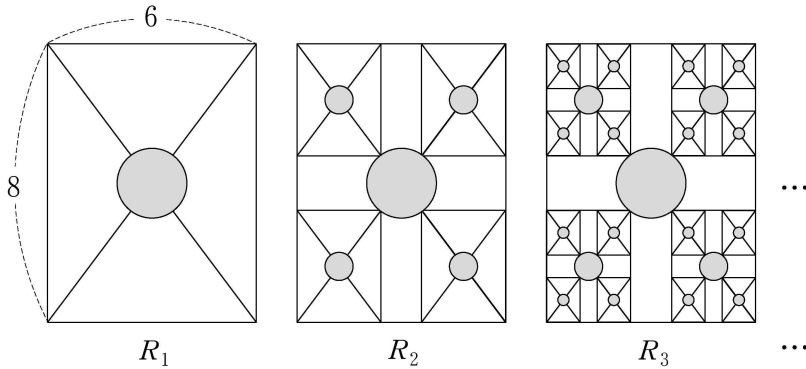
⑤ $\frac{10(\pi-2)}{9}$

27.

2007

수능 (4점)

아래와 같이 가로와 세로의 길이가 6이고 8인 직사각형 내부에 두 대각선의 교점을 중심으로 하고, 직사각형 가로 길이의 $\frac{1}{3}$ 을 지름으로 하는 원을 그려서 얻은 그림을 R_1 이라 하자. 그림 R_1 에서 직사각형의 각 꼭지점으로부터 대각선과 원의 교점까지의 선분을 각각 대각선으로 하는 4개의 직사각형을 그린 후, 새로 그려진 직사각형 내부에 두 대각선의 교점을 중심으로 하고, 새로 그려진 직사각형 가로 길이의 $\frac{1}{3}$ 을 지름으로 하는 원을 그려서 얻은 그림을 R_2 라 하자. 그림 R_2 에 있는 합동인 4개의 직사각형 각각에서 각 꼭지점으로부터 대각선과 원의 교점까지의 선분을 각각 대각선으로 하는 4개의 직사각형을 그린 후, 새로 그려진 직사각형 내부에 두 대각선의 교점을 중심으로 하고, 새로 그려진 직사각형 가로 길이의 $\frac{1}{3}$ 을 지름으로 하는 원을 그려서 얻은 그림을 R_3 이라 하자. 이와 같은 과정을 계속하여 n 번째 얻은 그림 R_n 에 있는 모든 원의 넓이의 합을 S_n 이라 할 때, $\lim_{n \rightarrow \infty} S_n$ 의 값은?(단, 모든 직사각형의 가로와 세로는 각각 서로 평행하다.)



① $\frac{37}{9}\pi$

② $\frac{34}{9}\pi$

③ $\frac{31}{9}\pi$

④ $\frac{28}{9}\pi$

⑤ $\frac{25}{9}\pi$

- 1) 정답 ①
- 2) 정답 ②
- 3) 정답 ④
- 4) 정답 ②
- 5) 정답 ②
- 6) 정답 ④
- 7) 정답 ④
- 8) 정답 59
- 9) 정답 20
- 10) 정답 ⑤
- 11) 정답 ②
- 12) 정답 ⑤
- 13) 정답 ①
- 14) 정답 ②
- 15) 정답 ③
- 16) 정답 ④
- 17) 정답 ⑤
- 18) 정답 ④
- 19) 정답 ②
- 20) 정답 ⑤
- 21) 정답 ①
- 22) 정답 ⑤
- 23) 정답 ③
- 24) 정답 ④
- 25) 정답 ④
- 26) 정답 ⑤
- 27) 정답 ⑤