

제 2 교시

2015학년도 대학수학능력시험 모의평가 문제지

수학 영역 (B형)

성명		수험 번호																	
----	--	-------	--	--	--	--	--	--	--	--	--	--	--	--	--	--	--	--	--

- 자신이 선택한 유형(A형/B형)의 문제지인지 확인하십시오.
 - 문제지의 해당란에 성명과 수험 번호를 정확히 쓰시오.
 - 답안지의 필적확인란에 다음의 문구를 정자로 기재하십시오.
- 뿌리 깊은 나무는 난이도에 흔들리지 않는다.**
- 답안지의 해당란에 성명과 수험 번호를 쓰고, 또 수험 번호, 문형(홀수/짝수), 답을 정확히 표시하십시오.
 - 단답형의 답의 숫자에 '0'이 포함되면 그 '0'도 답란에 반드시 표시하십시오.
 - 문항에 따라 배점이 다르니, 각 물음의 끝에 표시된 배점을 참조하십시오.
 - 배점은 2점, 3점 또는 4점입니다.
 - 계산은 문제지의 여백을 활용하십시오.

※ 시험이 시작되기 전까지 표지를 넘기지 마시오.

제 2 교시

수학 영역

1. $\sqrt{6} \div \sqrt[3]{18} \times \sqrt[6]{96}$ 의 값은? [2점]
 ① 2 ② 3 ③ 4
 ④ 6 ⑤ 9

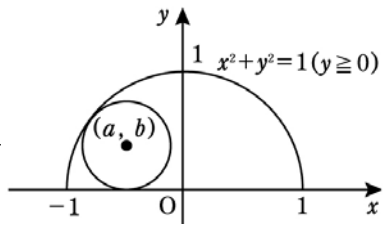
3. $\lim_{x \rightarrow 1} \frac{\sqrt{x+1} - \sqrt{2}}{\sqrt{x} - 1}$ 의 값은? [2점]
 ① $\frac{1}{2}$ ② $\frac{\sqrt{2}}{2}$ ③ 1
 ④ $\sqrt{2}$ ⑤ 2

2. 두 행렬 $A = \begin{pmatrix} 1 & 1 \\ 0 & 1 \end{pmatrix}$, $B = \begin{pmatrix} 0 & 0 \\ 1 & 1 \end{pmatrix}$ 에 대하여
 $AX + BX = 2A + B$ 를 만족시키는 행렬 X 의 모든 성분
 의 합은? [2점]
 ① 1 ② 2 ③ 3
 ④ 4 ⑤ 5

4. 등차수열 $\{a_n\}$ 이 $a_3 + a_4 = 12$, $\frac{a_2 + a_4 + a_6}{a_1 + a_3 + a_5} = 2$ 를 만
 족할 때 a_5 의 값은? [3점]
 ① 3 ② 6 ③ 9
 ④ 12 ⑤ 15

5. 오른쪽 그림과 같이 반원

$x^2 + y^2 = 1 (y \geq 0)$ 과 x 축에
동시에 접하는 원의 중심의 좌
표를 (a, b) 라 할 때,



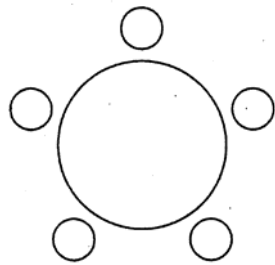
$\lim_{a \rightarrow -1+0} \frac{b}{a+1}$ 의 값은?

[3점]

- ① $\frac{1}{2}$ ② $\frac{2}{3}$ ③ 1
- ④ $\frac{3}{2}$ ⑤ 2

6. A, B, C, D, E의 5명이 원탁에
둘러앉을 때, A, B, C 세 사람이
모두 이웃하도록 앉는 방법의 수는?

[3점]



- ① 10 ② 12
- ③ 15 ④ 16
- ⑤ 18

7. 삼차방정식 $x^3 + 5x^2 + 3x - 7 = 0$ 의 세 실근을 α, β, γ

라 할 때, 방정식 $\frac{1}{x-\alpha} + \frac{1}{x-\beta} + \frac{1}{x-\gamma} = 0$ 의 모든 근
의 합은? [3점]

- ① -2 ② $-\frac{7}{3}$ ③ $-\frac{8}{3}$
- ④ -3 ⑤ $-\frac{10}{3}$

8. 삼각형 ABC에서 $\angle A = 60^\circ$ 이고 $\overline{BC} = \sqrt{3}$ 일 때
 $\overline{AB} + \overline{AC}$ 의 최댓값은? [3점]

- ① $\sqrt{6}$ ② $2\sqrt{2}$ ③ $\sqrt{10}$
- ④ $2\sqrt{3}$ ⑤ $\sqrt{14}$

[9~10] $y = a$ 가 $y = 4 \cdot 2^x$ 및 $y = 2^x$ 와 만나는 점을 각각 A, B라 하고 $y = b$ 가 $y = 4 \cdot 2^x$ 및 $y = 2^x$ 와 만나는 점을 각각 C, D라 하자. (단, $0 < a < b$ 이다.)
10번과 11번의 물음에 답하시오.

9. $b - a = 3$ 일 때 두 곡선과 $y = a$ 및 $y = b$ 로 둘러싸인 부분의 넓이는? [3점]
 ① 2 ② 4 ③ 6
 ④ 8 ⑤ 10

10. ABC가 정삼각형일 때, 점 A의 좌표는 (p, q) 이다. 이때, $2^p \times q^3$ 의 값을 구하시오. [3점]
 ① $\frac{3}{4}$ ② 1 ③ $\frac{5}{4}$
 ④ $\frac{7}{4}$ ⑤ $\frac{9}{4}$

11. 자연수 n 에 대하여 두 함수 $y = 2^x$, $y = \log_2 x$ 의 그래프가 직선 $y = -\frac{1}{n}x + 2$ 와 만나는 교점의 x 좌표를 각각 a_n, b_n 이라 하자. 이때, 옳은 것만을 <보기>에서 있는 대로 고른 것은? [4점]

<보기>

ㄱ. $a_1 < 1$ 이고 $b_1 > 1$

ㄴ. $a_n < a_{n+1} < 1$

ㄷ. $n \geq 2$ 일 때 $a_n \cdot 2^{a_n} < b_n \cdot \log_2 b_n$

- ① ㄱ ② ㄴ ③ ㄷ
 ④ ㄴ, ㄷ ⑤ ㄱ, ㄴ, ㄷ

12. 집합 $V = \left\{ \begin{pmatrix} x & -y \\ y & x \end{pmatrix} \mid x, y \text{ 는 실수} \right\}$ 에 대하여,

<보기>에서 옳은 것을 모두 고르면? [4점]

<보기>

ㄱ. 집합 V 는 행렬의 곱셈에 대한 항등원을 갖는다.

ㄴ. 행렬 $A \in V$ 에 대하여 $A \neq O$ 이면 A 는 역행렬을 갖는다.

ㄷ. 행렬 $A, B \in V$ 에 대하여 $AB = O$ 이면 $A = O$ 또는 $B = O$ 이다. (단, O 는 영행렬이다.)

- ① ㄱ ② ㄷ ③ ㄱ, ㄴ
 ④ ㄴ, ㄷ ⑤ ㄱ, ㄴ, ㄷ

13. 다음은 $\log_3 4$ 가 무리수임을 증명한 것이다.

[증명]

$\log_3 4$ 가 유리수라 가정하면

$\log_3 4 > 0$ 이므로

$$\log_3 4 = \frac{p}{q} \quad (\text{단, } p, q \text{은 서로소인 자연수})$$

인 p, q 가 존재한다. 주어진 식을 변형하면

$$4 = 3^{\frac{p}{q}} \text{이므로 } 4^q = 3^p \text{이다.}$$

그런데, 4^q 은 (나) 이고 3^p 은 (다) 이므로
모순이다.

따라서 $\log_3 4$ 는 유리수가 아니다.

위의 증명에서 (가), (나), (다)에 알맞은 것은? [3점]

- | | (가) | (나) | (다) |
|---|---------------|-------|-------|
| ① | $\frac{p}{q}$ | 4의 배수 | 3의 배수 |
| ② | $\frac{q}{p}$ | 4의 배수 | 3의 배수 |
| ③ | $\frac{p}{q}$ | 짝수 | 3의 배수 |
| ④ | $\frac{q}{p}$ | 짝수 | 홀수 |
| ⑤ | $\frac{p}{q}$ | 짝수 | 홀수 |

14. 함수 $f(a)$ 를

$$f(a) = \lim_{x \rightarrow a} \frac{1}{x-a} \int_a^x \{\cos(a+t) + \sqrt{3} \sin(a+t)\} dt$$

로 정의할 때, $0 \leq a < \pi$ 의 범위에서 $f(a)$ 는 $a = \frac{\pi}{p}$ 에서

최댓값 q 를 갖는다. pq 의 값은? [3점]


- ① 12 ② 11 ③ 10
④ 9 ⑤ 8

15. 행렬 $\begin{pmatrix} 3 & -2 \\ 1 & k \end{pmatrix}$ 로 나타내어지는 일차변환에 의하여 직

선 $l : x+y=1$ 이 옮겨진 직선을 l' 이라 하자. 두 직선 l 과 l' 이 수직일 때, k 의 값은? [3점]

- ① -4 ② -3 ③ -2
④ -1 ⑤ 0

16. 다음 그림과 같이 한 변의 길이가 1인 정삼각형 F_0 가 있다. F_0 의 각 변의 삼등분



점을 잡아 $\frac{1}{3}$ 을 떼어 내고 각 변의 길이의 $\frac{1}{3}$ 인 선분 2개를 붙여 F_1 을 만든다. 같은 방법으로 F_1 으로부터 F_2 를 만들고, F_2 로부터 F_3 을 만든다.

이와 같은 과정을 한없이 되풀이 하여 얻은 도형을 코흐(Koch)곡선이라고 한다. 도형 F_n 의 변의 개수를 a_n , 둘레의 길이를 b_n 이라 하자. $a_0 = 3, b_0 = 3, a_1 = 12, b_1 = 4$

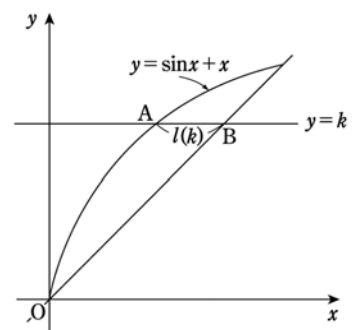
이다. 이때 $\sum_{n=1}^{\infty} \frac{b_n}{a_n}$ 의 값을 구하면? [4점]

- ① $\frac{1}{2}$ ② 1 ③ 2
- ④ 3 ⑤ 4

17. 자연수 n 에 대하여 $\log n$ 의 지표를 $f(n)$, 가수를 $g(n)$ ($0 \leq g(n) < 1$)이라 하자. $g(n+1) < g(n)$ 을 만족하는 n 의 값 중 작은 것부터 차례대로 n_1, n_2, n_3, \dots 이라 할 때, $\sum_{k=1}^{10} f(n_k)$ 의 값은? [4점]

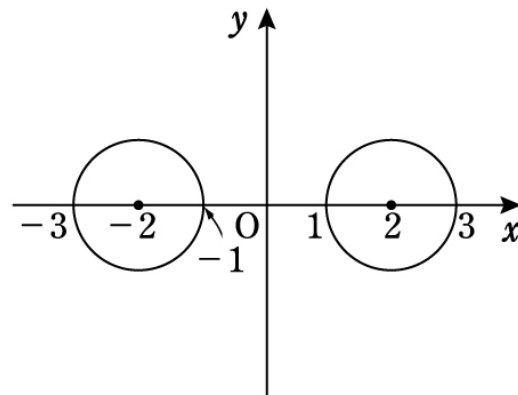
- ① 35 ② 36 ③ 45
- ④ 46 ⑤ 55

18. 직선 $y = k$ (단, $0 < k < \pi$)가 곡선 $y = x + \sin x$ 및 직선 $y = x$ 와 만나는 두 교점을 각각 A, B라 하고 두 점 사이의 거리 \overline{AB} 를 $l(k)$ 라 하자. 함수 $l(k)$ 의 최댓값을 구하면? [4점]



- ① 1 ② 2 ③ 3
- ④ 4 ⑤ 5

19. 좌표평면 위에 중심이 각각 $(2, 0), (-2, 0)$ 이고 반지름의 길이가 1인 두 원이 있다. 양수 r 에 대하여 $f(r)$ 를 반지름의 길이가 r 이고 이 두 원에 동시에 접하는 원의 개수라 하자. <보기>에서 옳은 것을 모두 고른 것은? [4점]



<보기>

- ㄱ. $f(2) = 4$
- ㄴ. $\lim_{x \rightarrow 1+0} f(f(x)) = 4$
- ㄷ. $\sum_{n=1}^5 f(n) = 26$

- ① ㄱ ② ㄴ ③ ㄱ, ㄴ
- ④ ㄱ, ㄷ ⑤ ㄱ, ㄴ, ㄷ

단답형(22 ~ 30)

20. $0 \leq x \leq 1$ 에서 정의된 다항함수 $f(x)$ 가 다음 두 조건을 만족한다.

- I. $1 < f(x) < 2$
- II. $x_1 < x_2$ 이면 $f(x_1) < f(x_2)$

이때, <보기>에서 옳은 것을 모두 고른 것은? [4점]

- <보기>
- ㄱ. $0 < x < 1$ 인 임의의 실수 x 에 대하여 $f'(x) \geq 0$ 이다.
 - ㄴ. 방정식 $f(x) - 2x = 0$ 의 해가 개구간 $(0, 1)$ 에 적어도 한 개 존재한다.
 - ㄷ. $\sum_{k=0}^{n-1} f\left(\frac{k}{n}\right) \frac{1}{n} < \int_0^1 f(x) dx < \sum_{k=1}^n f\left(\frac{k}{n}\right) \frac{1}{n}$

- ① ㄱ ② ㄴ ③ ㄱ, ㄷ
- ④ ㄴ, ㄷ ⑤ ㄱ, ㄴ, ㄷ

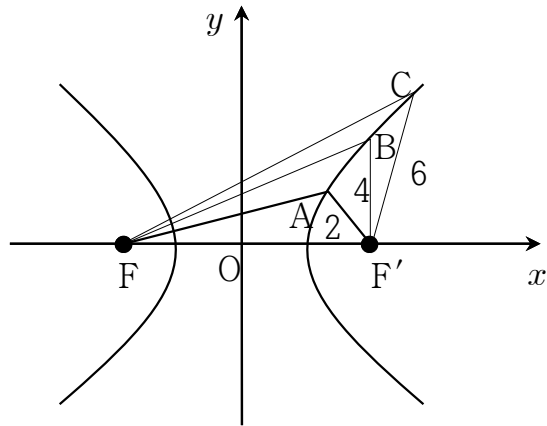
21. 자연수 k 에 대하여 연립 부등식 $y < x, x + y < k$ 를 만족시키는 자연수의 순서쌍 (x, y) 의 개수를 a_k 라 할 때, 다음<보기>에서 옳은 것을 모두 고른 것은? [4점]

- <보기>
- ㄱ. $a_6 = 4$
 - ㄴ. $a_{2n} - a_{2n-1} = n - 1$
 - ㄷ. $\sum_{k=1}^{20} a_k = 525$

- ① ㄴ ② ㄷ ③ ㄱ, ㄴ
- ④ ㄴ, ㄷ ⑤ ㄱ, ㄴ, ㄷ

22. 행렬 $A = \begin{pmatrix} a & b \\ c & d \end{pmatrix}$ 가 나타내는 일차변환에 의하여 두 점 $(2, 2), (3, 4)$ 이 각각 두 점 P, Q 로 옮겨지고, 원점을 중심으로 60° 만큼 회전하는 변환에 의하여 두 점 P, Q 가 각각 $(-\sqrt{3}, 1), (-1, -\sqrt{3})$ 으로 옮겨진다고 할 때, 행렬 A 의 모든 성분의 합을 구하시오. [3점]

23. 그림과 같이 쌍곡선 $\frac{x^2}{9} - \frac{y^2}{16} = 1$ 의 한 초점 F' 로부터의 거리가 2, 4, 6이 되는 세 점 A, B, C 를 쌍곡선 위에 잡는다. 다른 한 초점 F 에 대하여 $\overline{FA} + \overline{FB} + \overline{FC}$ 의 값을 구하시오. [3점]

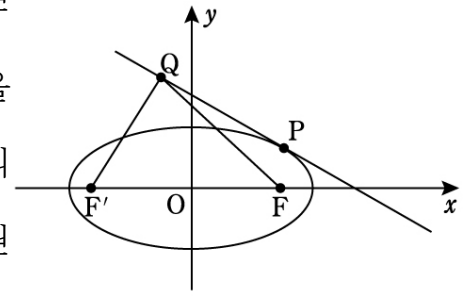


24. $f(x) = \begin{cases} \frac{a \cos x - \cos 3x}{x^2} & (x \neq 0) \\ b & (x = 0) \end{cases}$ 가 $x = 0$ 에서 연속
일 때 $a + b$ 의 값을 구하시오. [3점]

25. $A_{n+1} = A_n + (2n - 1) \begin{pmatrix} 1 & 2 \\ 0 & 1 \end{pmatrix}$, $A_1 = \begin{pmatrix} 1 & 2 \\ 3 & 4 \end{pmatrix}$ 일 때,
 A_5 의 모든 원소의 합을 구하시오. [3점]

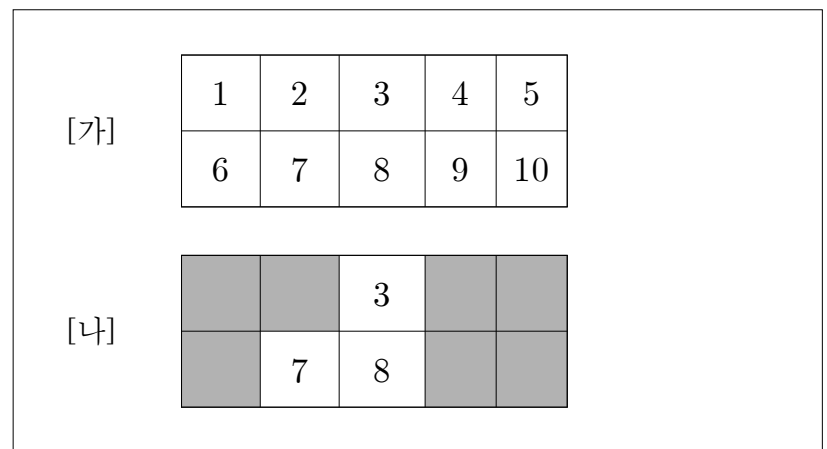
26. 오른쪽 그림에서 타원

$\frac{x^2}{9} + \frac{y^2}{4} = 1$ 의 두 초점을 F, F' 라 하고, 타원 위의
점 $P\left(\frac{3}{2}, \sqrt{3}\right)$ 에서 타원
에 그은 접선을 l 이라 하
자.



l 위의 동점 Q 에 대하여 $\overline{QF} + \overline{QF'}$ 가 최소가 될 때의 점
 Q 의 좌표는 (a, b) 이고, $\overline{QF} + \overline{QF'}$ 의 최솟값은 c 이다.
이때, $(abc)^2$ 의 값을 구하시오. [4점]

27. 아래 그림 [가]과 같이 번호가 쓰인 바닥에 어두운 색으로
겉면이 색칠된 정육면체 모양의 입체도형 10개를 쌓아
서 위에서 바라본 모양이 그림 [나]처럼 되도록 쌓는 방법은
모두 몇 가지인지 구하시오. (단, 정육면체의 한 면은 그림
의 한 칸과 서로 합동이다.) [4점]



28. 100 이하의 자연수 전체의 집합을 S 라 할 때, $n \in S$ 에 대하여 집합

$$\{k \mid k \in S \text{ 이고 } \log_2 n - \log_2 k \text{ 는 정수}\}$$

의 원소의 개수를 $f(n)$ 이라 하자. 예를 들어, $f(10) = 5$ 이고 $f(99) = 1$ 이다. 이때, $f(n) = 2$ 인 n 의 개수를 구하시오. [4점]

29. 실수 t 에 대하여 곡선 $y = x^4 - x^3 + 2x$ 위의 점 $(t, t^4 - t^3 + 2t)$ 과 직선 $y = 2x + k$ 사이의 거리를 $g(t)$ 라 하자. 함수 $g(t)$ 가 $t = 1$ 에서만 미분이 불가능할 때, $\sqrt{5}g'(3)$ 의 값을 구하시오. [4점]

30. 다음 규칙에 따라 자연수를 적어 나간다.

$$(n = 1, 2, 3, \dots)$$

[규칙 1] 제1행에는 1을 적는다.

[규칙 2] 제 $(n+1)$ 행의 첫 번째 수는 제 n 행의 마지막 수와 같다.

[규칙 2] 제 n 행에는 공차가 2인 연속된 2^{n-1} 개의 자연수를 적는다.

제1행 1

제2행 1, 3

제3행 3, 5, 7, 9

제4행 9, 11, 13, 15, 17, 19, 21, 23

제 m 행의 n 번째 수를 $a(m, n)$ 으로 나타내기로 하자.

예를 들어 $a(3, 3)$ 는 제3행의 3번째 수이므로 7을 나타낸다. $a(m, n) = 777$ 일 때, $m+n$ 의 값을 구하시오.

[4점]

실전모의고사 (B형) 2회- 정답 및 해설

1	2	3	4	5
①	④	②	④	③
6	7	8	9	10
②	⑤	④	③	⑤
11	12	13	14	15
⑤	⑤	⑤	①	①
16	17	18	19	20
①	③	①	③	⑤
21	22	23	24	25
⑤	1	30	5	74
26	27	28	29	30
243	84	24	81	151

1) 정답 ①

풀이

$$\begin{aligned} & \sqrt{6} \div \sqrt[3]{18} \times \sqrt[6]{96} \\ &= 2^{\frac{1}{2}-\frac{1}{3}+\frac{5}{6}} \cdot 3^{\frac{1}{2}-\frac{2}{3}+\frac{1}{6}} \\ &= 2^1 \cdot 3^0 \\ &= 2 \end{aligned}$$

2) 정답 ④

풀이

$$AX + BX = 2A + B \text{에서}$$

$$(A + B)X = 2A + B$$

$A + B = \begin{pmatrix} 1 & 1 \\ 1 & 2 \end{pmatrix}$ 이고 $A + B$ 의 역행렬이 존재하므로

$$X = (A + B)^{-1}(2A + B)$$

한편, $2A + B = \begin{pmatrix} 2 & 2 \\ 1 & 3 \end{pmatrix}$ 이므로

$$X = \begin{pmatrix} 1 & 1 \\ 1 & 2 \end{pmatrix}^{-1} \begin{pmatrix} 2 & 2 \\ 1 & 3 \end{pmatrix} = \begin{pmatrix} 2 & -1 \\ -1 & 1 \end{pmatrix} \begin{pmatrix} 2 & 2 \\ 1 & 3 \end{pmatrix} = \begin{pmatrix} 3 & 1 \\ -1 & 1 \end{pmatrix}$$

따라서 행렬 X 의 모든 성분의 합은 4이다.

3) 정답 ②

풀이

$$\begin{aligned} & \lim_{x \rightarrow 1} \frac{\sqrt{x+1} - \sqrt{2}}{\sqrt{x} - 1} \\ &= \lim_{x \rightarrow 1} \frac{(\sqrt{x+1} - \sqrt{2})(\sqrt{x+1} + \sqrt{2})(\sqrt{x} + 1)}{(\sqrt{x} - 1)(\sqrt{x} + 1)(\sqrt{x+1} + 2)} \\ &= \lim_{x \rightarrow 1} \frac{(x-1)(\sqrt{x} + 1)}{(x-1)(\sqrt{x+1} + \sqrt{2})} \\ &= \lim_{x \rightarrow 1} \frac{\sqrt{x} + 1}{\sqrt{x+1} + \sqrt{2}} = \frac{2}{2\sqrt{2}} = \frac{\sqrt{2}}{2} \end{aligned}$$

4) 정답 ④

풀이

$a_n = a + (n-1)d$ (단, a 는 첫째항, d 는 공차)라고 하면

$$a_3 + a_4 = 12 \text{에서 } a + 2d + a + 3d = 12$$

$$\therefore 2a + 5d = 12$$

$$\frac{a_2 + a_4 + a_6}{a_1 + a_3 + a_5} = 2 \text{에서 } \frac{3a_4}{3a_3} = 2 \text{이므로}$$

$$\frac{a + 3d}{a + 2d} = 2$$

$$a + 3d = 2a + 4d$$

$$\therefore a + d = 0$$

$$\therefore a = -4, d = 4$$

$$a_5 = a + 4d = 12$$

5) 정답 ③

풀이

중심이 (a, b) 인 원이 $x^2 + y^2 = 1$ 인 원에 내접하므로

$$1 - b = \sqrt{a^2 + b^2}$$

$$b = \frac{-a^2 + 1}{2}$$

$$\therefore \lim_{a \rightarrow -1+0} \frac{b}{a+1} = \lim_{a \rightarrow -1+0} \frac{-(a^2 - 1)}{2(a+1)}$$

$$= \lim_{a \rightarrow -1+0} \frac{-(a-1)}{2} = 1$$

6) 정답 ②

풀이

$$2 \times 3 \times 2 \times 1 = 12(\text{가지})$$

7) 정답 ⑤

풀이

원식 양변에 $(x - \alpha)(x - \beta)(x - \gamma)$ 를 곱하여 정리하면

$$3x^2 - 2(\alpha + \beta + \gamma)x + \alpha\beta + \beta\gamma + \gamma\alpha = 0 \text{이다.}$$

삼차방정식 $x^3 + 5x^2 + 3x - 7 = 0$ 에서 $\alpha + \beta + \gamma = -5$,

$$\alpha\beta + \beta\gamma + \gamma\alpha = 3 \text{이므로}$$

$$3x^2 + 10x + 3 = 0 \text{에서 } x = -3, -\frac{1}{3} \text{이고 이 값들은 위 삼}$$

차방정식의 근이 아니므로 무연근이 아니다.

$$\therefore \text{세 근의 합} = \frac{2(\alpha + \beta + \gamma)}{3} = -\frac{10}{3}$$

8) 정답 ④

풀이

$\triangle ABC$ 에서 외접원의 반지름을 R 이라 하면 사인법칙에서

$$\frac{\sqrt{3}}{\sin 60^\circ} = \frac{\overline{AC}}{\sin B} = \frac{\overline{AB}}{\sin C} = 2R$$

$\therefore R = 1$ 이고,

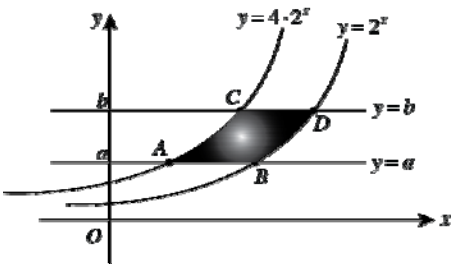
$$\overline{AC} = 2 \sin B, \overline{AB} = 2 \sin C = 2 \sin (120^\circ - B)$$

$$\begin{aligned} \therefore \overline{AB} + \overline{AC} &= 2 \sin B + 2 \sin (120^\circ - B) \\ &= 2 \sin B + 2 \left(\frac{\sqrt{3}}{2} \cos B + \frac{1}{2} \sin B \right) \\ &= 3 \sin B + \sqrt{3} \cos B \\ &= 2\sqrt{3} \sin \left(B + \frac{\pi}{6} \right) \end{aligned}$$

따라서 최댓값은 $2\sqrt{3}$ 이다.

9) 정답 ③

풀이



$$y = 2^{x_1} \text{에서 } x_1 = \log_2 y$$

$$y = 2^{x_2+4} \text{에서 } x_2 = \log_2 y - 2 \text{이므로}$$

구하는 넓이 S 는

$$S = \int_a^b (x_1 - x_2) dy$$

$$= 2(b - a)$$

$$= 6$$

10) 정답 ⑤

풀이

점 A 의 좌표를 (p, q) 라 하면

삼각형 ABC 가 정삼각형이고 선분 AB 의 길이가 2이므로

$B(p+2, q), C(p+1, q+\sqrt{3})$ 이다.

점 A, C 는 곡선 $y = 2^{x+2}$ 위의 점이므로

$$q = 2^{p+2} \dots \textcircled{1}$$

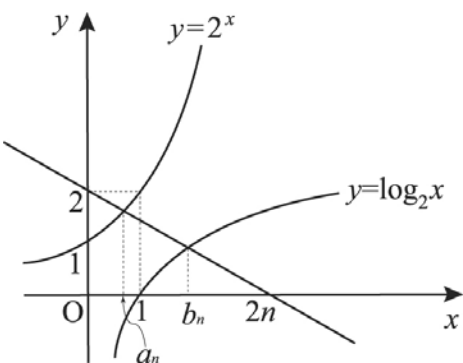
$$q + \sqrt{3} = 2^{p+3} \dots \textcircled{2}$$

$$\textcircled{1} \text{과 } \textcircled{2} \text{를 연립하면 } q = \sqrt{3}, 2^p = \frac{\sqrt{3}}{4}$$

$$\therefore 2^p \times q^3 = \frac{9}{4}$$

11) 정답 ⑤

풀이



ㄱ. 그래프에서 $0 < a_n < 1 < b_n$ 이다. (참)

ㄴ. 그래프에서 n 의 값이 커질수록 x 절편이 커지므로 a_n 도 커진다. (참)

ㄷ. $0 < a_n < 1$ 이므로 $1 < 2^{a_n} < 2 \therefore 0 < a_n \cdot 2^{a_n} < 2$

$b_n \geq 2$ 이므로 $\log_2 b_n \geq 1$

$\therefore b_n \cdot \log_2 b_n \geq 2$

$\therefore a_n \cdot 2^{a_n} < b_n \cdot \log_2 b_n$ (참)

12) 정답 ⑤

풀이

$$A = \begin{pmatrix} a & -b \\ b & a \end{pmatrix}, B = \begin{pmatrix} p & -q \\ q & p \end{pmatrix}$$

(단, a, b, p, q 는 실수)라 하면

ㄱ. $E = \begin{pmatrix} 1 & 0 \\ 0 & 1 \end{pmatrix} \in V$ 이므로 곱셈에 대한 항등원을 갖는다.

(참)

ㄴ. $A = \begin{pmatrix} a & -b \\ b & a \end{pmatrix}$ 에서 $A \neq O$ 이면

$a \neq 0$ 또는 $b \neq 0$ 이므로

$$D = a^2 + b^2 \neq 0$$

따라서 A 는 역행렬을 갖는다. (참)

ㄷ. $AB = O$ 에서 AB 가 역행렬을 갖지 않으므로 A 또는 B 가 역행렬을 갖지 않는다.

$$\Rightarrow a^2 + b^2 = 0 \text{ 또는 } p^2 + q^2 = 0$$

$$\Rightarrow a = b = 0 \text{ 또는 } p = q = 0$$

$\therefore A = O$ 또는 $B = O$ (참)

13) 정답 ⑤

풀이

$$\log_3 4 = \frac{p}{q} \text{에서 } 4 = 3^{\frac{p}{q}}$$

$$\therefore (\text{가}) = \frac{p}{q}$$

$3^p = 4^q$ 이고 4^q 은 **짝수**이고, 3^p 은 **홀수**가 되어 모순이다.

$\therefore (\text{가}) = \frac{p}{q}, (\text{나}) = \text{짝수}, (\text{다}) = \text{홀수}$

14) 정답 ①

풀이

$g(t) = \cos(a+t) + \sqrt{3} \sin(a+t), g(t) = G'(t)$ 라 하면

$$f(a) = \lim_{x \rightarrow a} \frac{1}{x-a} \int_a^x \{ \cos(a+t) + \sqrt{3} \sin(a+t) \} dt$$

$$= \lim_{x \rightarrow a} \frac{1}{x-a} \int_a^x g(t) dt$$

$$\begin{aligned}
 &= \lim_{x \rightarrow a} \frac{G(x) - G(a)}{x - a} \\
 &= G'(a) = g(a) \\
 &= \cos 2a + \sqrt{3} \sin 2a \\
 &= 2 \left(\cos 2a \cdot \frac{1}{2} + \sin 2a \cdot \frac{\sqrt{3}}{2} \right) \\
 &= 2 \cos \left(2a - \frac{\pi}{3} \right)
 \end{aligned}$$

따라서 $f(a)$ 는 $2a - \frac{\pi}{3} = 0$, 즉 $a = \frac{\pi}{6}$ 일 때, 최댓값 2를 갖는다.

$\therefore p = 6, q = 2$

15) 정답 ①

풀이

직선 l 위의 점 $P(x, y)$ 가 옮겨진 점을 $P'(x', y')$ 이라 하면

$$\begin{aligned}
 \begin{pmatrix} x' \\ y' \end{pmatrix} &= \begin{pmatrix} 3 & -2 \\ 1 & k \end{pmatrix} \begin{pmatrix} x \\ y \end{pmatrix} \\
 \therefore \begin{pmatrix} x \\ y \end{pmatrix} &= \begin{pmatrix} 3 & -2 \\ 1 & k \end{pmatrix}^{-1} \begin{pmatrix} x' \\ y' \end{pmatrix} = \frac{1}{3k+2} \begin{pmatrix} k & 2 \\ -1 & 3 \end{pmatrix} \begin{pmatrix} x' \\ y' \end{pmatrix} \\
 \therefore \begin{cases} x = \frac{1}{3k+2}(kx' + 2y') \\ y = \frac{1}{3k+2}(-x' + 3y') \end{cases}
 \end{aligned}$$

직선 l 의 방정식에 대입하여 정리하면

$$l' : (k-1)x' + 5y' = 3k+2$$

이 직선이 $x+y=1$ 과 수직이므로 $\frac{1-k}{5} = 1$

$$1-k=5 \quad \therefore k=-4$$

16) 정답 ①

풀이

F_n 의 한 변의 길이는 $\left(\frac{1}{3}\right)^n$ 이므로

$$\begin{aligned}
 b_n &= a_n \times \left(\frac{1}{3}\right)^n \\
 \therefore \sum_{n=1}^{\infty} \frac{b_n}{a_n} &= \sum_{n=1}^{\infty} \left(\frac{1}{3}\right)^n = \frac{\frac{1}{3}}{1-\frac{1}{3}} = \frac{1}{2}
 \end{aligned}$$

17) 정답 ③

풀이

$$\log(n+1) - \log n = \log \frac{n+1}{n} \neq (\text{정수}) \text{이고}$$

$0 < \log(n+1) - \log n < 1$ 이므로

$g(n+1) < g(n)$ 이 성립하기 위해서는

$$\log(n+1) = (\text{정수}) \text{일 때이고, 이때 } g(n+1) = 0$$

즉, $n+1 = 10^l$ (l 은 자연수) 꼴이어야 한다.

$$\therefore n = 10 - 1, 10^2 - 1, 10^3 - 1, \dots$$

$$\text{즉, } n_k = 10^k - 1$$

이때 $f(n_k)$ 는 $\log(10^k - 1)$ 의 지표이므로

$$f(n_k) = k - 1$$

$$\therefore \sum_{k=1}^{10} f(n_k) = \sum_{k=1}^{10} (k-1) = 45$$

18) 정답 ①

풀이

곡선 $y = x + \sin x$ 의 점 A에서 접선이 $y = x$ 와 평행할 때 AB가 최대가 되므로

$$\left[\frac{dy}{dx} \right]_{(x=\alpha)} = 1 + \cos \alpha = 1 \quad \therefore \alpha = \frac{\pi}{2}$$

따라서 $A\left(\frac{\pi}{2}, \frac{\pi}{2} + 1\right), B\left(\frac{\pi}{2} + 1, \frac{\pi}{2} + 1\right)$ 일 때

$$l\left(\frac{\pi}{2}\right) = 1$$

19) 정답 ③

풀이

ㄱ. 반지름이 2인 원 중에서 두 원에 동시에 외접하는 원은 2개다.

한편 한 원과 외접하고 다른 원과 내접하는 원이 각각 1개씩 2개다. (참)

ㄴ. $1 < r < 2$ 이면 두 원에 동시에 외접하는 원 2개만 존재한다. 따라서 $f(r) = 2$ 이다.

$$\therefore \lim_{x \rightarrow 1+0} f(f(x)) = f(2) = 4 \quad (\text{참})$$

ㄷ. $f(1) = 1, f(2) = 4, f(3) = 7, f(4) = 8, f(5) = 8$ 이

$$\text{므로 } \sum_{n=1}^5 f(n) = 28 \quad (\text{거짓})$$

20) 정답 ⑤

풀이

ㄱ. 조건II에서 함수 $f(x)$ 가 증가함수이므로 ㄱ이 성립한다. (참)

ㄴ. $g(x) = f(x) - 2x$ 라 하면 $g(x)$ 는 연속함수
 $g(0) = f(0) > 0$

$g(1) = f(1) - 2 < 0$ 이므로 중간값의 정리에 의해 해가 적어도 한 개 존재한다. (참)

ㄷ. 조건II에서 함수 $f(x)$ 가 증가함수이므로 ㄷ이 성립한다. (참)

21) 정답 ⑤

풀이

ㄱ. $k=6$ 일 때

$y < x, x+y < 6$ 을 만족하는 자연수의 순서쌍 $(x,y) = (2,1), (3,1), (3,2), (4,1)$ 이므로 4개다. (참)
 ㄴ. $a_{2n} - a_{2n-1}$ 은 직선 $x+y=2n-1$ 위의 y 좌표가 x 좌표보다 작은 자연수의 순서쌍의 수이므로 $(x,y) = (2n-2,1), (2n-3,2), (n,n-1)$ 이므로 $n-1$ 개다.

$$a_{2n} - a_{2n-1} = n - 1 \text{ (참)}$$

ㄷ. $a_{2n+1} - a_{2n}$ 도 마찬가지로 직선 $x+y=2n$ 위의 y 좌표가 x 좌표보다 작은 자연수의 순서쌍의 수이므로 $(x,y) = (2n-1,1), (2n-2,2), (n+1,n-1)$ 이므로 $n-1$ 개다.

$$a_{2n+1} - a_{2n} = n - 1$$

ㄴ.에서 구한 $a_{2n} - a_{2n-1} = n-1$ 과 $a_{2n+1} - a_{2n} = n-1$ 을 이용하면 $a_{2n+1} - a_{2n-1} = 2n-2$ 이므로

$$a_{2n-1} = n^2 - 3n + 2, \quad a_{2n} = n^2 - 2n + 1$$

$$\begin{aligned} \sum_{k=1}^{20} a_k &= \sum_{k=1}^{10} (a_{2k-1} + a_{2k}) \\ &= \sum_{k=1}^{10} (2k^2 - 5k + 3) = 525 \text{ (참)} \end{aligned}$$

22) 정답 1

풀이

점 $(-\sqrt{3}, 1), (-1, -\sqrt{3})$ 을 원점을 중심으로 -60° 만큼 회전 이동하면 점 P, Q 가 된다.

$$\begin{pmatrix} \cos(-60^\circ) & -\sin(-60^\circ) \\ \sin(-60^\circ) & \cos(-60^\circ) \end{pmatrix} = \frac{1}{2} \begin{pmatrix} 1 & \sqrt{3} \\ -\sqrt{3} & 1 \end{pmatrix}$$

$$\frac{1}{2} \begin{pmatrix} 1 & \sqrt{3} \\ -\sqrt{3} & 1 \end{pmatrix} \begin{pmatrix} -\sqrt{3} & -1 \\ 1 & -\sqrt{3} \end{pmatrix} = \begin{pmatrix} 0 & -2 \\ 2 & 0 \end{pmatrix} \text{이다.}$$

$$\begin{pmatrix} a & b \\ c & d \end{pmatrix} \begin{pmatrix} 2 & 3 \\ 2 & 4 \end{pmatrix} = \begin{pmatrix} 0 & -2 \\ 2 & 0 \end{pmatrix} \text{에서}$$

$$a=2, b=-2, c=4, d=-3$$

따라서 행렬 A 의 모든 성분의 합은 1이다.

23) 정답 30

풀이

쌍곡선의 정의에 의해

$$\overline{AF} - \overline{AF'} = 6, \quad \overline{BF} - \overline{BF'} = 6, \quad \overline{CF} - \overline{CF'} = 6 \text{이다.}$$

$$\overline{AF} = \overline{AF'} + 6 = 8, \quad \overline{BF} = \overline{BF'} + 6 = 10,$$

$$\overline{CF} = \overline{CF'} + 6 = 12$$

$$\therefore \overline{AF} + \overline{BF} + \overline{CF} = 30$$

24) 정답 5

풀이

$$f(0) = \lim_{x \rightarrow 0} \frac{a \cos x - \cos 3x}{x^2} = b \text{에서}$$

$$\lim_{x \rightarrow 0} x^2 = 0 \text{ 이므로 } \lim_{x \rightarrow 0} (a \cos x - \cos 3x) = a - 1 = 0 \text{에}$$

서 $a=1$

$$\text{따라서 } b = \lim_{x \rightarrow 0} \frac{\cos x - \cos 3x}{x^2}$$

$$= \lim_{x \rightarrow 0} \frac{2 \sin 2x \sin x}{x^2}$$

$$= \lim_{x \rightarrow 0} \left(2 \cdot \frac{\sin 2x}{x} \cdot \frac{\sin x}{x} \right)$$

$$= 4$$

$$\therefore a+b=5$$

25) 정답 74

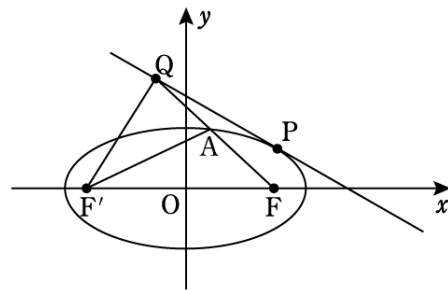
풀이

$$A_5 = A_1 + (1+3+5+7) \begin{pmatrix} 1 & 2 \\ 0 & 1 \end{pmatrix} = \begin{pmatrix} 1 & 2 \\ 3 & 4 \end{pmatrix} + 16 \begin{pmatrix} 1 & 2 \\ 0 & 1 \end{pmatrix}$$

따라서 A_5 의 모든 원소들의 합은 $10 + 16 \times 4 = 74$

26) 정답 243

풀이



\overline{QF} 와 타원의 교점을 A 라 하면

$$\overline{QF} + \overline{QF'} = (\overline{QA} + \overline{AF}) + \overline{QF'}$$

$$= (\overline{QA} + \overline{QF'}) + \overline{AF} \geq \overline{AF'} + \overline{AF}$$

$$= \overline{PF'} + \overline{PF} = 6$$

따라서 점 Q 가 $P\left(\frac{3}{2}, \sqrt{3}\right)$ 와 일치할 때 최솟값 6을 가진다.

$$\therefore (abc)^2 = \frac{9}{4} \times 3 \times 6^2 = 243$$

27) 정답 84

풀이

위에서 본 모양이 그림(나)처럼 되려면 (가)에서 숫자 1, 2, 4, 5, 6, 9, 10이 쓰인 자리에 적어도 한 개씩 10개의 정육면체를 쌓으면 되므로 구하는 가짓수는 ${}^7H_3 = {}^9C_3 = 84$ 이다.

28) 정답 24

풀이

$f(n) = 2$ 를 만족하는 n 은
 $25 < n \leq 50$ 을 만족하는 홀수 12(개)와
 $50 < n \leq 100$ 에 있는 2의 배수 중 4의 배수는 아닌 수의
 개수 12개이다.

29) 정답 81

풀이

$g(t) = \frac{1}{\sqrt{5}}|t^4 - t^3 - k|$ 이므로 $t = 1$ 에서 미분불가능 하려면

$g(1) = 0$ 에서 $k = 0$

$t > 0$ 일 때, $t^4 - t^3 > 0$ 이므로 $g(t) = \frac{1}{\sqrt{5}}(t^4 - t^3)$ 에서

$$\sqrt{5}g'(3) = 81$$

30) 정답 151

풀이

제 n 행의 마지막 수를 나열한 수열을 $\{a_n\}$ 이라 하면

제 n 행에 있는 수의 개수는 2^{n-1} 이므로

$$a_{n+1} = a_n + 2(2^n - 1)$$

따라서 수열 $\{a_n\}$ 의 계차수열의 일반항은 $2(2^n - 1)$ 이다.

$$\therefore a_n = 1 + \sum_{k=1}^{n-1} 2(2^k - 1)$$

$$= 1 + 2 \times \left\{ \frac{2(2^{n-1} - 1)}{2 - 1} - (n - 1) \right\}$$

$$= 2^{n+1} - 2n - 1$$

이때, $a_8 = 2^9 - 17 = 495$, $a_{10} = 2^{10} - 19 = 1005$ 이므로

777는 제9행의 수이다.

$777 = 495 + 2 \times 141$ 이므로 777은 9행 142째 수이다.