

제 2 교시

수학 영역

KSM

5지선다형

1. $27^{\frac{2}{3}}$ 의 값은? [2점]

- ① 5
- ② 6
- ③ 7
- ④ 8
- ⑤ 9

2. $\log_3 18 - \log_3 2$ 의 값은? [2점]

- ① 1
- ② 2
- ③ 3
- ④ 4
- ⑤ 5

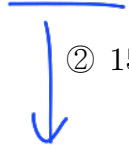
3. $12 \cos \frac{4}{3}\pi$ 의 값은? [2점]

- ① -7
- ② -6
- ③ -5
- ④ -4
- ⑤ -3

$12 \times (-\frac{1}{2})$

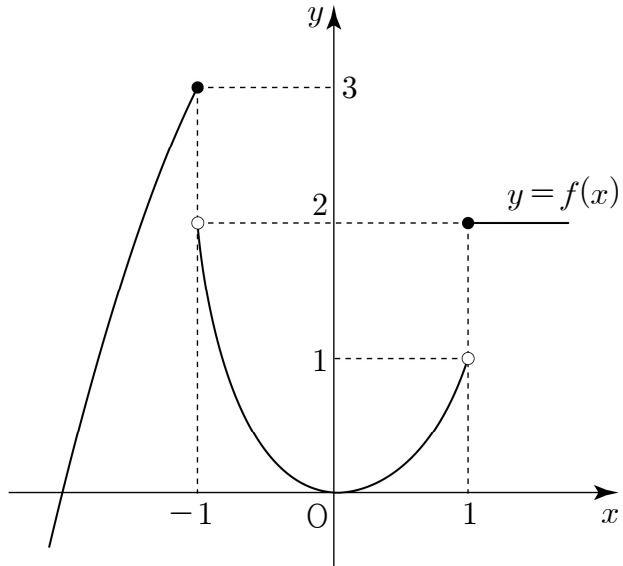
4. 모든 항이 양수인 등비수열 $\{a_n\}$ 에 대하여 $a_3 = 6$, $a_6 = 3a_4$ 일 때, a_9 의 값은? [3점]

- ① 153
- ② 156
- ③ 159
- ④ 162
- ⑤ 165



$r^2 = 3, a_9 = a_3 \times r^6 = 6 \times 3^3 = 162$

5. 함수 $y=f(x)$ 의 그래프가 그림과 같다.



$\lim_{x \rightarrow -1^+} f(x) + \lim_{x \rightarrow 1^-} f(x)$ 의 값은? [3점]

- ① 1 ② 2 ③ 3 ④ 4 ⑤ 5

$2 + 1 = 3$

6. 등차수열 $\{a_n\}$ 에 대하여

$\sum_{k=1}^5 a_k = 30$ 일 때, $a_2 + a_4$ 의 값은? [3점]

- ① 12 ② 14 ③ 16 ④ 18 ⑤ 20

$\frac{5(a_1 + a_5)}{2} = \frac{5(a_2 + a_4)}{2} = 30$

$a_2 + a_4 = 12$

7. 중심각의 크기가 $\frac{\pi}{6}$ 이고 호의 길이가 π 인 부채꼴의 넓이는?

[3점]

- ① π ② 2π ③ 3π ④ 4π ⑤ 5π

$l = r\theta$

$\pi = r \times \frac{\pi}{6}, r = 6$

$S = \frac{1}{2}rl = \frac{1}{2} \times 6 \times \pi = 3\pi$

8. 함수 $y = \log_3(2x+1)$ 의 역함수의 그래프가 점 $(4, a)$ 를 지날 때, a 의 값은? [3점]

- ① 40
- ② 42
- ③ 44
- ④ 46
- ⑤ 48

$$f^{-1}(4) = a$$

$$f(a) = 4$$

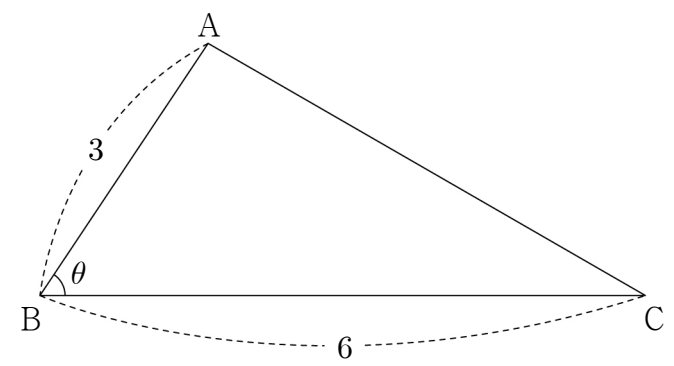
$$\log_3(2a+1) = 4$$

$$2a+1 = 3^4 = 81$$

$$a = 40$$

9. $\overline{AB} = 3$, $\overline{BC} = 6$ 인 삼각형 ABC 가 있다.
 $\angle ABC = \theta$ 에 대하여 $\sin \theta = \frac{2\sqrt{14}}{9}$ 일 때,
 선분 AC 의 길이는? (단, $0 < \theta < \frac{\pi}{2}$) [3점]

- ① 4
- ② $\frac{13}{3}$
- ③ $\frac{14}{3}$
- ④ 5
- ⑤ $\frac{16}{3}$



$$\cos \theta = \frac{5}{9}$$

$$AC^2 = 36 + 9 - 2 \cdot 3 \cdot 6 \cdot \frac{5}{9}$$

$$= 45 - 20 = 25$$

$$\overline{AC} = 5$$

10. 첫째항이 1 이고 공차가 3 인 등차수열 $\{a_n\}$ 에 대하여

$\sum_{k=1}^{10} \frac{1}{a_k a_{k+1}}$ 의 값은? [3점]

- ① $\frac{10}{31}$
- ② $\frac{11}{31}$
- ③ $\frac{12}{31}$
- ④ $\frac{13}{31}$
- ⑤ $\frac{14}{31}$

$$a_n = 3n - 2$$

$$a_k = 3k - 2$$

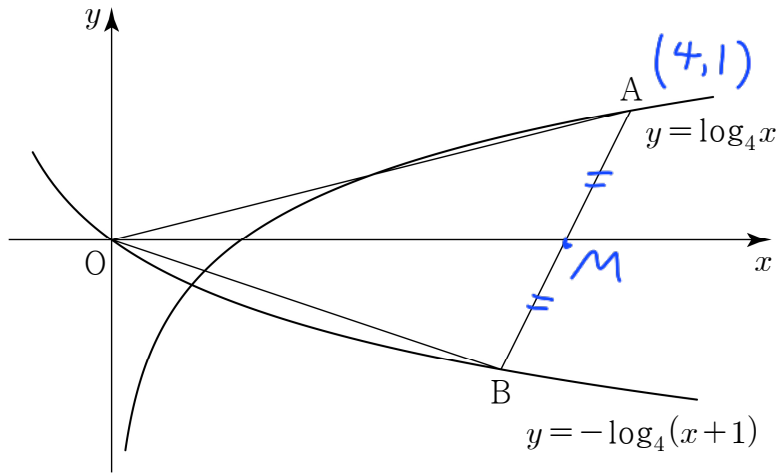
$$a_{k+1} = 3k + 1$$

$$\sum_{k=1}^{10} \frac{1}{(3k-2)(3k+1)}$$

$$= \frac{1}{3} \sum_{k=1}^{10} \left(\frac{1}{3k-2} - \frac{1}{3k+1} \right)$$

$$= \frac{1}{3} \left(1 - \frac{1}{31} \right) = \frac{10}{31}$$

11. 그림과 같이 곡선 $y = \log_4 x$ 위의 점 A와 곡선 $y = -\log_4(x+1)$ 위의 점 B가 있다. 점 A의 y좌표가 1이고, x축이 삼각형 OAB의 넓이를 이등분할 때, 선분 OB의 길이는? (단, O는 원점이다.) [3점]



- ① $\sqrt{6}$ ② $2\sqrt{2}$ ③ $\sqrt{10}$ ④ $2\sqrt{3}$ ⑤ $\sqrt{14}$

$\triangle OAB$ 넓이가 이등분 $\Rightarrow \overline{AM} = \overline{BM}$
 B의 y좌표: -1
 $B(3, -1)$
 $\overline{OB} = \sqrt{9+1} = \sqrt{10}$

12. 모든 항이 양수인 수열 $\{a_n\}$ 이 모든 자연수 n 에 대하여

$$\log_2 \frac{a_{n+1}}{a_n} = \frac{1}{2}$$

을 만족시킨다. 수열 $\{a_n\}$ 의 첫째항부터 제 n 항까지의 합을 S_n 이라 할 때, $\frac{S_{12}}{S_6}$ 의 값은? [3점]

- ① $\frac{17}{2}$ ② 9 ③ $\frac{19}{2}$ ④ 10 ⑤ $\frac{21}{2}$

$$\frac{a_{n+1}}{a_n} = 2^{\frac{1}{2}} = \sqrt{2}$$

$$a_{n+1} = \sqrt{2} a_n$$

a_n : 등비수열, 공비: $\sqrt{2}$

$$\frac{S_{12}}{S_6} = \frac{\frac{a(r^{12}-1)}{r-1}}{\frac{a(r^6-1)}{r-1}} = \frac{r^{12}-1}{r^6-1} = r^6+1 = (\sqrt{2})^6+1 = 9$$

13. 첫째항이 $\frac{1}{2}$ 인 수열 $\{a_n\}$ 이 모든 자연수 n 에 대하여

$$a_{n+1} = -\frac{1}{a_n - 1}$$

을 만족시킨다. 수열 $\{a_n\}$ 의 첫째항부터 제 n 항까지의 합을 S_n 이라 할 때, $S_m = 11$ 을 만족시키는 자연수 m 의 값은? [3점]

- ① 20 ② 21 ③ 22 ④ 23 ⑤ 24

$$a_1 = \frac{1}{2}$$

$$a_2 = -\frac{1}{a_1 - 1} = 2$$

$$a_3 = -\frac{1}{a_2 - 1} = -1$$

3개 항 반복

$$a_4 = -\frac{1}{a_3 - 1} = \frac{1}{2}$$

$$S_3 = a_1 + a_2 + a_3 = \frac{3}{2}$$

$$S_6 = 3$$

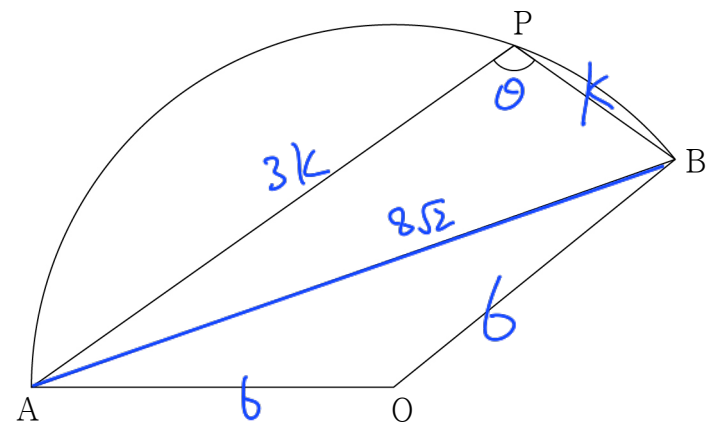
⋮

$$S_{3n} = \frac{3}{2}n$$

$$n=7 \rightarrow S_{21} = \frac{21}{2}$$

$$S_{22} = S_{21} + a_{22} = \frac{21}{2} + a_1 = 11$$

14. 그림과 같이 중심이 O 이고 반지름의 길이가 6 인 부채꼴 OAB 가 있다. $\overline{AB} = 8\sqrt{2}$ 이고 부채꼴 OAB 의 호 AB 위의 한 점 P 에 대하여 $\angle BPA > 90^\circ$, $\overline{AP} : \overline{BP} = 3 : 1$ 일 때, 선분 BP 의 길이는? [4점]



- ① $\frac{2\sqrt{6}}{3}$ ② $\frac{5\sqrt{6}}{6}$ ③ $\sqrt{6}$ ④ $\frac{7\sqrt{6}}{6}$ ⑤ $\frac{4\sqrt{6}}{3}$

$$\frac{8\sqrt{2}}{\sin \theta} = 12, \sin \theta = \frac{2\sqrt{2}}{3}$$

$$\rightarrow \cos \theta = -\frac{1}{3} \text{ (둔각)}$$

$\triangle APB$ 코사인법칙

$$\Rightarrow 128 = 9k^2 + k^2 - 2 \cdot 3k \cdot k \cdot \left(-\frac{1}{3}\right)$$

$$128 = 10k^2 + 2k^2$$

$$k^2 = \frac{32}{3}, \quad k = \frac{4\sqrt{2}}{\sqrt{3}} = \frac{4\sqrt{6}}{3}$$

15. 첫째항이 양수이고 공차가 2인 등차수열 $\{a_n\}$ 의 첫째항부터 제 n 항까지의 합을 S_n 이라 하자.
 $a_k = 31, S_{k+10} = 640$ 을 만족시키는 자연수 k 에 대하여 S_k 의 값은? [4점]

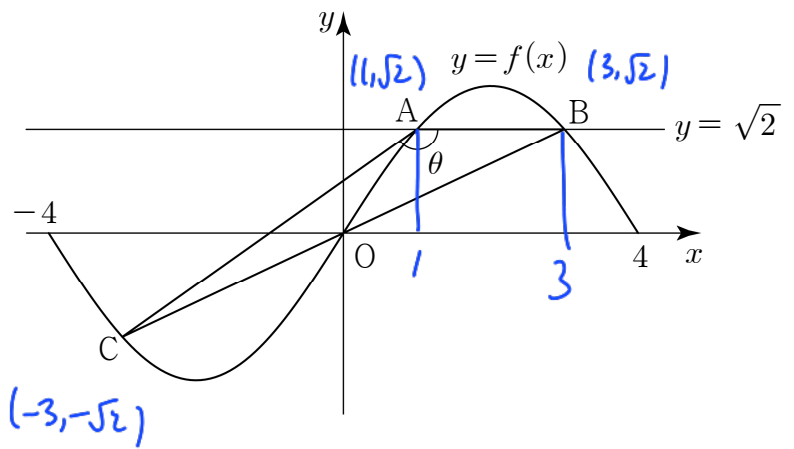
- ① 200 ② 205 ③ 210 ④ 215 ⑤ 220

$$\begin{aligned}
 S_{k+10} &= S_k + \sum_{t=k+1}^{k+10} a_t \\
 &= S_k + \frac{10(a_{k+1} + a_{k+10})}{2}, \quad a_k = 31, \quad d = 2 \\
 &= S_k + \frac{10(31+2) + (31+20)}{2} \\
 640 &= S_k + 420 \\
 \therefore S_k &= 220
 \end{aligned}$$

16. 집합 $\{x \mid -4 \leq x \leq 4\}$ 에서 정의된 함수

$$f(x) = 2 \sin \frac{\pi x}{4}$$

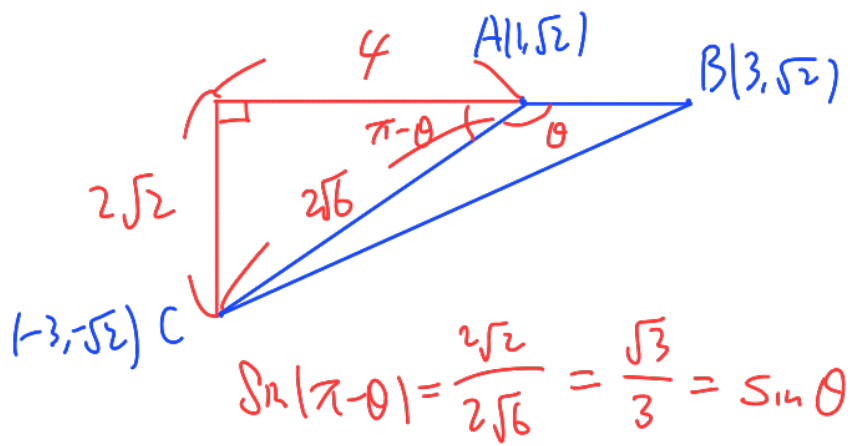
가 있다. 그림과 같이 함수 $y = f(x)$ 의 그래프가 직선 $y = \sqrt{2}$ 와 만나는 서로 다른 두 점을 A, B라 하고, 두 점 B, O를 지나는 직선이 함수 $y = f(x)$ 의 그래프와 만나는 점 중 B와 O가 아닌 점을 C라 하자.
 $\angle BAC = \theta$ 라 할 때, $\sin \theta$ 의 값은? (단, 점 B의 x 좌표는 점 A의 x 좌표보다 크고, O는 원점이다.) [4점]



- ① $\frac{\sqrt{3}}{3}$ ② $\frac{7\sqrt{3}}{18}$ ③ $\frac{4\sqrt{3}}{9}$ ④ $\frac{\sqrt{3}}{2}$ ⑤ $\frac{5\sqrt{3}}{9}$

$$\begin{aligned}
 2 \sin \frac{\pi x}{4} &= \sqrt{2}, \quad \sin \frac{\pi x}{4} = \frac{\sqrt{2}}{2} \\
 \frac{\pi x}{4} &= \frac{\pi}{4}, \frac{3\pi}{4}, \quad x = 1, 3
 \end{aligned}$$

$$\Rightarrow A(1, \sqrt{2}), B(3, \sqrt{2}), C(-3, -\sqrt{2})$$



17. 실수 $a (a > 1)$ 과 자연수 n 에 대하여 직선 $x = n$ 이 두 함수

$$y = 3a^x, y = 3a^{x-1}$$

의 그래프와 만나는 점을 각각 P_n, Q_n 이라 하자. 선분 P_nQ_n 의 길이를 l_n , 사다리꼴 $P_nQ_nQ_{n+2}P_{n+2}$ 의 넓이를 S_n 이라 하자.

두 실수 L, S 에 대하여 $\sum_{k=1}^{20} l_k = L, \sum_{k=1}^5 S_{4k-3} = S$ 일 때,

다음은 $\frac{S}{L} = \frac{2}{5}$ 를 만족시키는 a 의 값을 구하는 과정이다.

두 점 P_n, Q_n 의 좌표는 각각 $(n, 3a^n), (n, 3a^{n-1})$
 선분 P_nQ_n 의 길이 l_n 은 $3(a-1) \sum_{k=1}^{20} a^{k-1}$
 $l_n = 3(a-1) \times a^{n-1}$ 이므로 $\rightarrow 3(a-1) \times \frac{a^{20}-1}{a-1}$
 $L = \sum_{k=1}^{20} l_k = 3 \times \left(\frac{a^{20}-1}{a-1} \right)$ 이다.
 사다리꼴 $P_nQ_nQ_{n+2}P_{n+2}$ 의 넓이 S_n 은 $= 3(a^2-1)$
 $S_n = 3(a-1) \times (a^{n-1} + a^{n+1})$ 이므로
 $S = \sum_{k=1}^5 S_{4k-3} = 3(a-1) \left\{ \frac{(1+a^2)(a^4)^5 - 1}{a^4 - 1} \right\}$
 $= S_1 + S_5 + S_9 + S_{13} + S_{17} = \frac{3}{a+1} (a^{20}-1)$
 $= \frac{3}{(나)} \times \left(\frac{a^{20}-1}{a+1} \right)$ 이다.
 따라서 $\frac{S}{L} = \frac{\frac{3}{(나)} \times \left(\frac{a^{20}-1}{a+1} \right)}{3 \times \left(\frac{a^{20}-1}{a-1} \right)} = \frac{1}{\left(\frac{나}{a+1} \right)} = \frac{2}{5}$
 이므로 $a = \left(\frac{다}{a+1} \right)$ 이다. $a = \frac{3}{2}$

위의 (가), (나)에 알맞은 식을 각각 $f(a), g(a)$ 라 하고, (다)에 알맞은 수를 p 라 할 때, $\frac{f(\sqrt{2})}{g(20p)}$ 의 값은? [4점]

- ① 24 ② 27 ③ 30 ④ 33 ⑤ 36

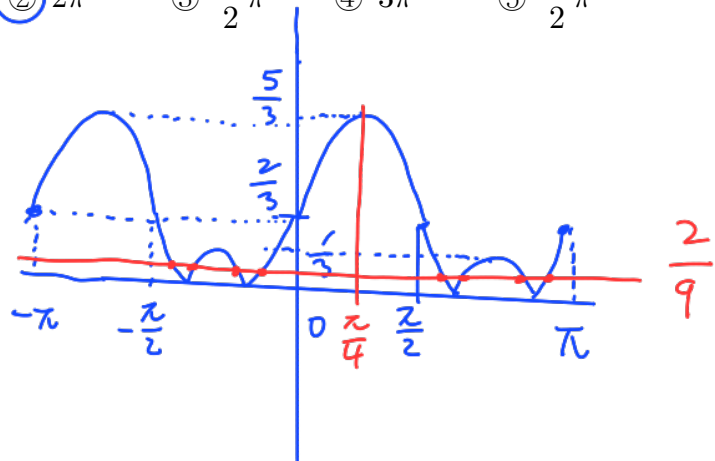
$y = 3a^x$
 $y = 3a^{x-1}$
 $g(20p) = g(30) = 31$
 $f(\sqrt{2}) = (\sqrt{2})^{20} = 1023$
 $\frac{1023}{31} = 33$

18. 집합 $\{x \mid -\pi \leq x \leq \pi\}$ 에서 정의된 함수

$$f(x) = \left| \sin 2x + \frac{2}{3} \right|$$

가 있다. 양수 k 에 대하여 함수 $y = f(x)$ 의 그래프가 두 직선 $y = 3k, y = k$ 와 만나는 서로 다른 점의 개수를 각각 m, n 이라 할 때, $|m-n|=3$ 을 만족시킨다. $-\pi \leq x \leq \pi$ 일 때, x 에 대한 방정식 $f(x) = k$ 의 모든 실근의 합은? [4점]

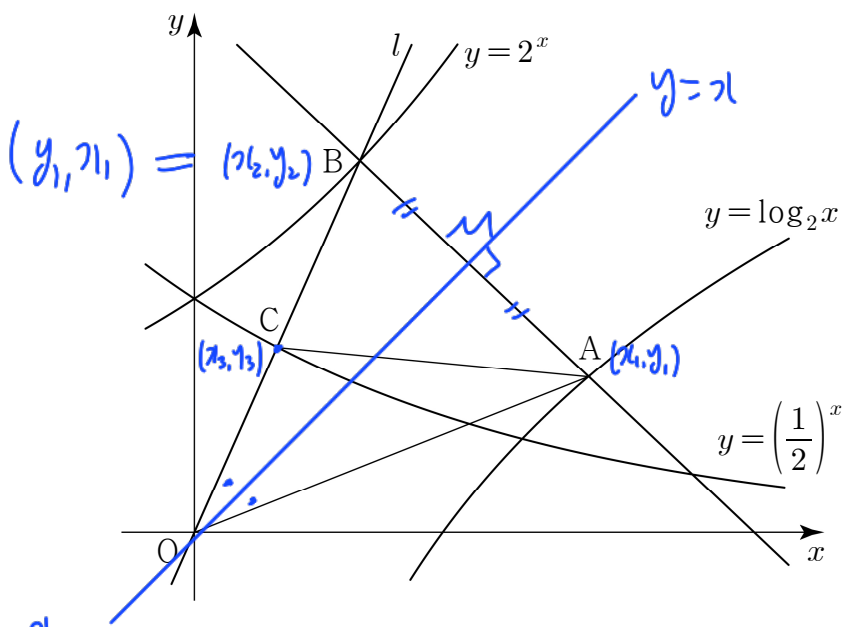
- ① $\frac{3}{2}\pi$ ② 2π ③ $\frac{5}{2}\pi$ ④ 3π ⑤ $\frac{7}{2}\pi$



$f(x) & y = 3k$ 근점 개수 $g(k)$
 $f(x) & y = k$ 근점 개수 $h(k)$ $|k > 0$

$|g(k) - h(k)| = 3 \Rightarrow k = \frac{2}{9}$
 $f(x) = \frac{2}{9}$ 근점 8개, $x = \frac{\pi}{4}$ 대칭
 $\therefore \left(\frac{\pi}{4} \times 2 \right) \times 4 = 2\pi$

19. 그림과 같이 곡선 $y = \log_2 x$ 위의 한 점 $A(x_1, y_1)$ 을 지나고 기울기가 -1 인 직선이 곡선 $y = 2^x$ 과 만나는 점을 $B(x_2, y_2)$ 라 하고, 두 점 B, O 를 지나는 직선 l 이 곡선 $y = \left(\frac{1}{2}\right)^x$ 과 만나는 점을 $C(x_3, y_3)$ 이라 하자. 삼각형 OAB 의 넓이가 삼각형 OAC 의 넓이의 2배일 때, <보기>에서 옳은 것만을 있는 대로 고른 것은? (단, $x_1 > 1$ 이고, O 는 원점이다.) [4점]



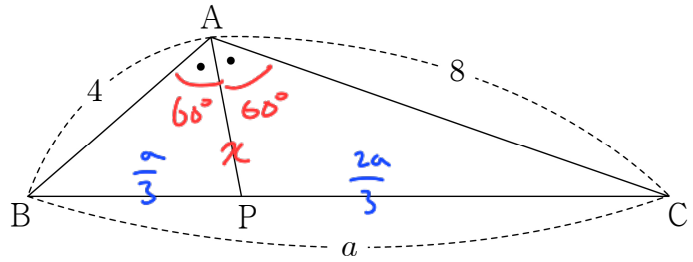
2^기 & 1-기²기
역함수
B(x₂, y₂) = (y₁, x₁)
△OMB ≅ △OMA
OA = OB

- <보 기>
- ㉠. $\overline{OC} = \frac{1}{2} \overline{OA}$
 - ㉡. $x_2 + y_1 = 4x_3$
 - ㉢. 직선 l 의 기울기는 $3 \times \left(\frac{1}{2}\right)^{\frac{1}{3}}$ 이다.

- ① ㉠ ② ㉠, ㉡ ③ ㉠, ㉢
④ ㉡, ㉢ ⑤ ㉠, ㉡, ㉢

㉠. $\triangle OAB = 2 \times \triangle OAC$ 이므로 $\overline{OC} = \frac{1}{2} \overline{OB} = \frac{1}{2} \overline{OA}$
 ㉡. $C(x_3, y_3) \Rightarrow B(2x_3, 2y_3) = (y_1, x_1)$
 $x_2 = 2x_3, y_1 = 2y_3 \Rightarrow x_2 + y_1 = 4x_3$
 ㉢. $B(2x_3, 2y_3) \Rightarrow y = 2^x \Rightarrow 2^{2x_3} = 2y_3$
 $C(x_3, y_3) \Rightarrow y = \left(\frac{1}{2}\right)^x \Rightarrow \left(\frac{1}{2}\right)^{x_3} = y_3$
 $2^{3x_3} = 2,$
 $x_3 = \frac{1}{3}, y_3 = \left(\frac{1}{2}\right)^{\frac{1}{3}}$
 $\therefore l$ 기울기 = $\frac{y_3}{x_3} = 3 \left(\frac{1}{2}\right)^{\frac{1}{3}}$

20. 그림과 같이 양수 a 에 대하여 $\overline{AB} = 4, \overline{BC} = a, \overline{CA} = 8$ 인 삼각형 ABC 가 있다. $\angle BAC$ 의 이등분선이 선분 BC 와 만나는 점을 P 라 하자. $a(\sin B + \sin C) = 6\sqrt{3}$ 일 때, 선분 AP 의 길이는? (단, $\angle BAC > 90^\circ$) [4점]



- ① $\frac{7}{3}$ ② $\frac{8}{3}$ ③ 3 ④ $\frac{10}{3}$ ⑤ $\frac{11}{3}$

$AB:AC = 1:2 = BP:PC, BP = \frac{a}{3}, CP = \frac{2a}{3}$
 $\sin B = \frac{8}{2R}, \sin C = \frac{4}{2R}$
 $a \left(\frac{12}{2R}\right) = 6\sqrt{3}, a = \sqrt{3}R$
 $\frac{a}{\sin(\angle B+C)} = 2R = \frac{2}{\sqrt{3}}a, \sin(\angle BAC) = \frac{\sqrt{3}}{2}$
 $\angle BAC = 120^\circ$
 $\therefore \angle BAP = \angle CAP = 60^\circ$
 $\overline{AP} = r$
 $\triangle ABC = \triangle ABP + \triangle CAP$
 $\frac{1}{2} \times 4 \times \frac{a}{3} \times \frac{\sqrt{3}}{2} = \frac{1}{2} \times 4r \times \frac{\sqrt{3}}{2} + \frac{1}{2} \times \frac{2a}{3}r \times \frac{\sqrt{3}}{2}$
 $\Rightarrow 32 = 4r + 8r = 12r, r = \frac{8}{3}$

24. $\log_5 2 = a$, $\log_2 7 = b$ 일 때, 25^{ab} 의 값을 구하시오. [3점]

$$5^a = 2, \quad 2^b = 7$$

49

$$25^{ab} = 5^{2ab} = (5^a)^{2b} = 2^{2b} = (2^b)^2 = 7^2 = 49$$

26. 두 함수 $f(x)$, $g(x)$ 가

$$\lim_{x \rightarrow 1} \frac{f(x)}{x-1} = 8, \quad \lim_{x \rightarrow 1} \frac{g(x)}{x^2-1} = \frac{1}{2}$$

을 만족시킬 때, $\lim_{x \rightarrow 1} \frac{(x+1)f(x)}{g(x)}$ 의 값을 구하시오. [4점]

~~~~~

16

$$\lim_{x \rightarrow 1} \left( \frac{f(x)}{x-1} \times \frac{x^2-1}{g(x)} \right) = 8 \times 2 = 16$$

25. 수열  $\{a_n\}$ 에 대하여

$$\sum_{k=1}^{10} (a_k)^2 = 20, \quad \sum_{k=1}^{10} (a_k+1)^2 = 50$$

일 때,  $\sum_{k=1}^{10} a_k$ 의 값을 구하시오. [3점]

$$\sum_{k=1}^{10} a_k^2 = 20$$

10

$$\sum_{k=1}^{10} (a_k^2 + 2a_k + 1)$$

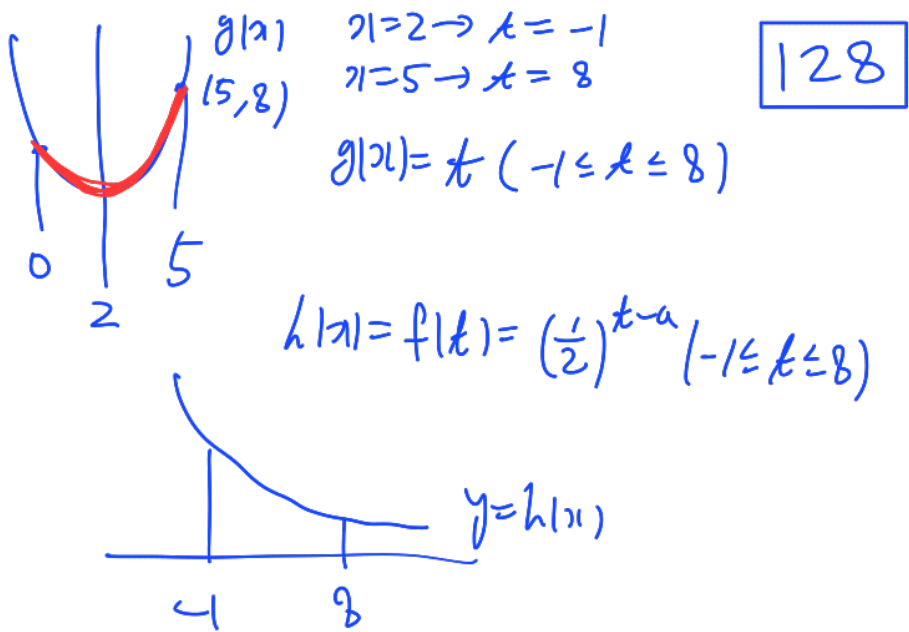
$$= 20 + 2 \sum_{k=1}^{10} a_k + 10 = 50$$

$$\therefore \sum_{k=1}^{10} a_k = 10$$

27. 두 함수

$$f(x) = \left(\frac{1}{2}\right)^{x-a}, g(x) = (x-1)(x-3)$$

에 대하여 합성함수  $h(x) = (f \circ g)(x)$  라 하자.  
 함수  $h(x)$  가  $0 \leq x \leq 5$  에서 최솟값  $\frac{1}{4}$ , 최댓값  $M$  을  
 갖는다.  $M$  의 값을 구하시오. (단,  $a$  는 상수이다.) [4점]



$$x=5 \rightarrow \left(\frac{1}{2}\right)^{8-a} = \frac{1}{4} = \left(\frac{1}{2}\right)^2 \therefore a=6$$

$$x=2 \rightarrow \left(\frac{1}{2}\right)^{-1-a} = \left(\frac{1}{2}\right)^{-7} = 128 = M$$

28. 2 이상의 자연수  $n$  과 상수  $k$  에 대하여  $n^2 - 17n + 19k$  의  
 $n$  제곱근 중 실수인 것의 개수를  $f(n)$  이라 하자.

$\sum_{n=2}^{19} f(n) = 19$  를 만족시키는 자연수  $k$  의 값을 구하시오. [4점]

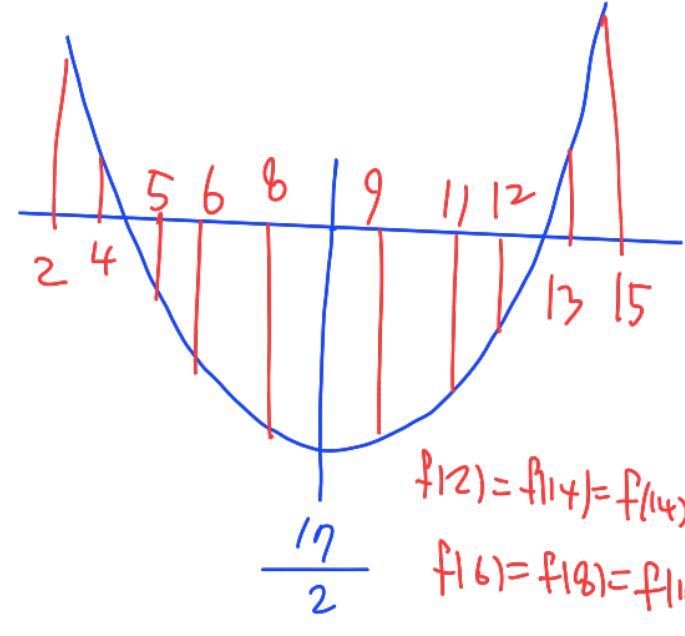
$$x^n = n^2 - 17n + 19k \quad \boxed{3}$$

$n$ : 홀수  $\Rightarrow f(n) = 1$   
 $n$ : 짝수  $\Rightarrow f(n) = 2$  or  $1$  or  $0$

$$\sum_{n=2}^{19} f(n) = \sum_{t=1}^9 f(2t+1) + \sum_{t=1}^9 f(2t) = 19$$

$\Downarrow$                        $\Downarrow$   
 9 이쁘고              10이 되어야 함

$$n^2 - 17n + 19k = \left(n - \frac{17}{2}\right)^2 \sim$$



$\therefore f(4) > 0, f(5) < 0$

$$\begin{cases} 16 - 68 + 19k > 0, & 19k > 52 \\ 25 - 85 + 19k < 0, & 19k < 60 \end{cases}$$

$$\frac{52}{19} < k < \frac{60}{19}$$

$\begin{matrix} 11 & 11 & k=3 \\ 2.777 & 3.474 & \end{matrix}$

29. 양수  $m$  과 0이 아닌 실수  $a$ 에 대하여 두 함수

$$f(x) = \begin{cases} x^2 + (a-1)x - a^2 + 2 & (x \leq 2m) \\ -3x + 4a & (x > 2m) \end{cases}$$

$$g(x) = \begin{cases} ax - a & (x \leq m+1) \\ x - a + 1 & (x > m+1) \end{cases}$$

이 다음 조건을 만족시킨다.

(가)  $\lim_{x \rightarrow \alpha^-} f(x) \neq \lim_{x \rightarrow \alpha^+} f(x)$ ,  $\lim_{x \rightarrow \beta^-} g(x) \neq \lim_{x \rightarrow \beta^+} g(x)$  인 실수  $\alpha, \beta$ 가 존재한다.  
 (나) 모든 실수  $k$ 에 대하여  $\lim_{x \rightarrow k} \frac{f(x)}{g(x)}$ 의 값이 존재한다.

$m + g(a^2)$ 의 값을 구하시오. [4점]

4

$f$ 의 경우  $x=2m$  에서 연속함수  $\Rightarrow d=2m$   
 $g$ 의 경우  $x=m+1$  에서 연속함수  $\Rightarrow \beta=m+1$  > by (가)  
 모든  $k \rightarrow \frac{f(k)}{g(k)}$  존재  
 if)  $2m \neq m+1$   
 $\lim_{x \rightarrow 2m^-} \frac{f(x)}{g(x)} \neq \lim_{x \rightarrow 2m^+} \frac{f(x)}{g(x)} \quad \therefore 2m = m+1$   
 $m = 1$   
 $\lim_{x \rightarrow 1^-} \frac{f(x)}{g(x)}$  존재  
 $\lim_{x \rightarrow 1^-} \frac{f(x)}{g(x)} = \lim_{x \rightarrow 1^-} \frac{x^2 + (a-1)x - a^2 + 2}{a(x-1)}$  존재  
 $\Rightarrow \lim_{x \rightarrow 1^-} \frac{x^2 + (a-1)x - a^2 + 2}{a(x-1)} = -a^2 + a + 2 = 0$   
 $a = -1$  or  $2$   
 i)  $a = -1 \Rightarrow \lim_{x \rightarrow 2^-} \frac{f(x)}{g(x)} = \lim_{x \rightarrow 2^-} \frac{(x-1)^2}{-(x-1)} = -1$   
 $\lim_{x \rightarrow 2^+} \frac{f(x)}{g(x)} = \lim_{x \rightarrow 2^+} \frac{-3x-4}{x+2} = -\frac{5}{2} \neq$   
 ii)  $a = 2 \Rightarrow \lim_{x \rightarrow 2^-} \frac{f(x)}{g(x)} = \lim_{x \rightarrow 2^-} \frac{x^2+x-2}{2x-1} = 2$   
 $\lim_{x \rightarrow 2^+} \frac{f(x)}{g(x)} = \lim_{x \rightarrow 2^+} \frac{-3x+8}{x-1} = 2 =$   
 $\therefore a = 2$   
 $g(x) = \begin{cases} 2x-2 & (x \leq 2) \\ x-1 & (x > 2) \end{cases} \quad g(1^+) = g(1^-) = 3$   
 $\therefore m + g(a^2) = 1 + 3 = 4$

30.  $\frac{12}{5} < k \leq 4$ 인 상수  $k$ 와 자연수  $n$ 에 대하여

수열  $\{a_n\}$ 이 다음 조건을 만족시킨다.

(가)  $n$ 이 짝수이면  
 $a_n$ 은  $0 \leq x \leq 2$ 에서 직선  $y = -\frac{k}{2n}$ 와  
 곡선  $y = 2\sin\left(n\pi x + \frac{\pi}{2}\right) + |k \sin^2(n\pi x) - (k-1)|$ 이  
 만나는 서로 다른 점의 개수와 같다.  
 (나)  $n$ 이 홀수이면  
 $a_n$ 은  $0 \leq x \leq 2$ 에서 직선  $y = \frac{k+1}{n}$ 과  
 곡선  $y = 2\sin\left(n\pi x + \frac{\pi}{2}\right) + |k \sin^2(n\pi x) - (k-1)|$ 이  
 만나는 서로 다른 점의 개수와 같다.

$0 < a_2 < 6$ 일 때,  $\sum_{n=1}^5 a_n$ 의 값을 구하시오. [4점]

\* 확인 사항  
 ○ 답안지의 해당란에 필요한 내용을 정확히 기입(표기)했는지 확인  
 하시오.

30.  $\frac{12}{5} < k \leq 4$  인 상수  $k$  와 자연수  $n$  에 대하여

수열  $\{a_n\}$  이 다음 조건을 만족시킨다.

- (가)  $n$  이 짝수이면  
 $a_n$  은  $0 \leq x \leq 2$  에서 직선  $y = -\frac{k}{2n}$  와  
 곡선  $y = 2\sin(n\pi x + \frac{\pi}{2}) + |k\sin^2(n\pi x) - (k-1)|$  이  
 만나는 서로 다른 점의 개수와 같다.
- (나)  $n$  이 홀수이면  
 $a_n$  은  $0 \leq x \leq 2$  에서 직선  $y = \frac{k+1}{n}$  과  
 곡선  $y = 2\sin(n\pi x + \frac{\pi}{2}) + |k\sin^2(n\pi x) - (k-1)|$  이  
 만나는 서로 다른 점의 개수와 같다.

$0 < a_2 < 6$  일 때,  $\sum_{n=1}^5 a_n$  의 값을 구하시오. [4점]

53

$$\begin{aligned} & 2\sin(n\pi x + \frac{\pi}{2}) + |k\sin^2(n\pi x) - (k-1)| \\ &= 2\cos(n\pi x) + |k(1-\cos^2(n\pi x)) - (k-1)| \\ &= 2\cos(n\pi x) + |1 - k\cos^2(n\pi x)|, \cos(n\pi x) = t \ (-1 \leq t \leq 1) \end{aligned}$$

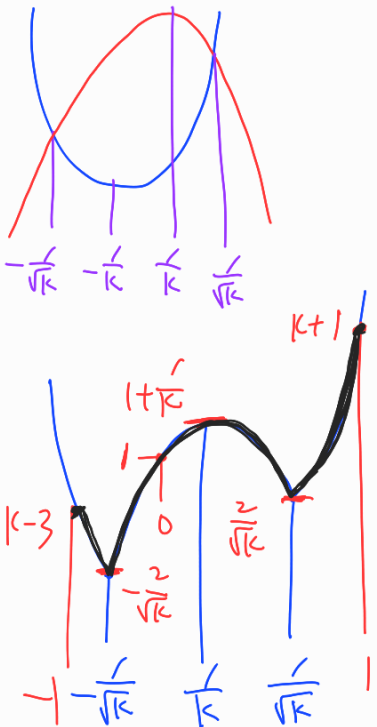
$$= 2t + |1 - kt^2| = \underbrace{|kt^2 - 1| + 2t}_{f(t)}$$

$\frac{12}{5} < k \leq 4 \Rightarrow 0 < \frac{1}{\sqrt{k}} < 1$

$$f(t) = \begin{cases} kt^2 + 2t - 1 & (-1 \leq t < -\frac{1}{\sqrt{k}} \text{ or } \frac{1}{\sqrt{k}} < t \leq 1) \\ -kt^2 + 2t + 1 & (-\frac{1}{\sqrt{k}} \leq t \leq \frac{1}{\sqrt{k}}) \end{cases}$$

$$f(t) = \begin{cases} k(t + \frac{1}{k})^2 - 1 - \frac{1}{k} & (-1 \leq t < -\frac{1}{\sqrt{k}} \text{ or } \frac{1}{\sqrt{k}} < t \leq 1) \\ -k(t - \frac{1}{k})^2 + 1 + \frac{1}{k} & (-\frac{1}{\sqrt{k}} \leq t \leq \frac{1}{\sqrt{k}}) \end{cases}$$

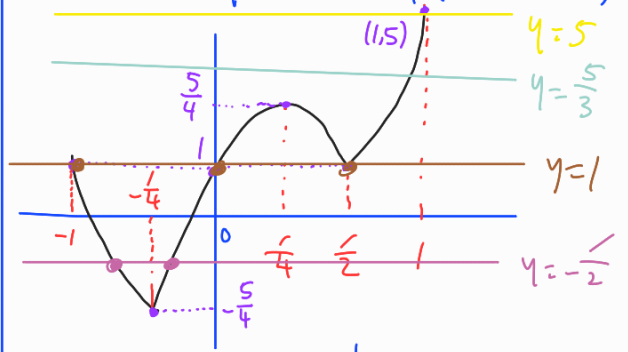
$$\frac{12}{5} < k \leq 4 \Rightarrow k > \sqrt{k} > 0 \Rightarrow \frac{1}{k} < \frac{1}{\sqrt{k}} \\ -\frac{1}{k} > -\frac{1}{\sqrt{k}}$$



$n=2 \Rightarrow y = \cos 2\pi x$   
  
 $y = -\frac{k}{4}$  라  $y = f(t)$  의 근점 개수를  $a_2$   
 $\cos 2\pi x = \alpha$  의 근점 개수;  $a_2$   
 $\alpha$  가 2개 이상  $\Rightarrow a_2 \geq 6$   
 $\therefore \alpha$  는 1개 가짐  $\Rightarrow -\frac{2}{\sqrt{k}} = -\frac{k}{4}, k=4$   
 $\Rightarrow a_2 = 4$

$k=4$

$$\Rightarrow f(t) = \begin{cases} 4(t + \frac{1}{4})^2 - \frac{5}{4} & (-1 \leq t < -\frac{1}{2} \text{ or } \frac{1}{2} < t \leq 1) \\ -4(t - \frac{1}{4})^2 + \frac{5}{4} & (-\frac{1}{2} \leq t \leq \frac{1}{2}) \end{cases}$$



i)  $n=1 \quad y = \cos \pi x$   
 $y = 5$   $a_1 = 2$

ii)  $n=2 \rightarrow a_2 = 4$

(ii)  $n=3 \rightarrow y = \cos 3\pi x$   
 $y = \frac{5}{3}$   $a_3 = 6$

(iv)  $n=4 \rightarrow y = \cos 4\pi x$   
 $y = -\frac{1}{2}$   $a_4 = 16$

v)  $n=5 \rightarrow y = \cos 5\pi x$   
 $y = 1$   $a_5 = 25$

$$\therefore \sum_{n=1}^5 a_n = 2 + 4 + 6 + 16 + 25 = 53$$