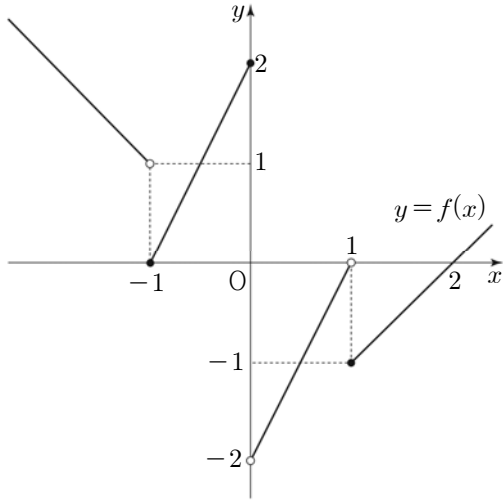


12. 함수 $y=f(x)$ 의 그래프가 그림과 같을 때, <보기>에서 옳은 것만을 있는 대로 고른 것은? [3점]



< 보 기 >

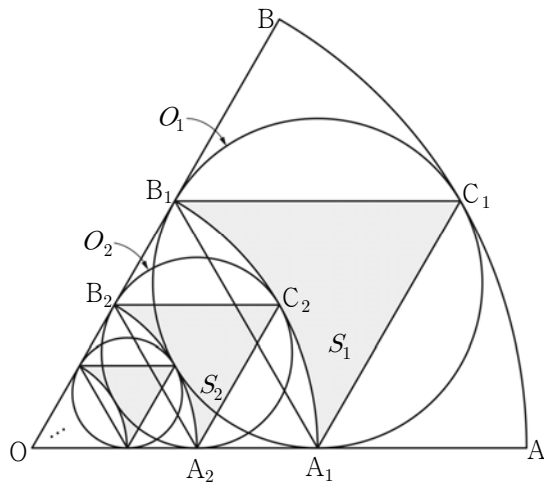
- ㄱ. $\lim_{x \rightarrow +0} \{f(x) + f(-x)\} = 0$
- ㄴ. $\lim_{x \rightarrow 1+0} f(f(x)) = 1$
- ㄷ. 함수 $\{f(x-1)\}^2$ 은 $x=1$ 에서 연속이다.

- ① ㄱ ② ㄴ ③ ㄱ, ㄷ
- ④ ㄴ, ㄷ ⑤ ㄱ, ㄴ, ㄷ

18. 그림과 같이 중심각의 크기가 $\frac{\pi}{3}$ 이고 반지름의 길이가 6인

부채꼴 OAB가 있다. 부채꼴 OAB에 내접하는 원 O_1 이 두 선분 OA, OB, 호 AB와 만나는 점을 각각 A_1, B_1, C_1 이라 하고, 부채꼴 OA_1B_1 의 외부와 삼각형 $A_1C_1B_1$ 의 내부의 공통부분의 넓이를 S_1 이라 하자. 부채꼴 OA_1B_1 에 내접하는 원 O_2 가 두 선분 OA_1, OB_1 , 호 A_1B_1 과 만나는 점을 각각 A_2, B_2, C_2 라 하고, 부채꼴 OA_2B_2 의 외부와 삼각형 $A_2C_2B_2$ 의 내부의 공통부분의 넓이를 S_2 라 하자. 위와 같은 과정을 계속하여 n 번째 얻은 부채꼴 OA_nB_n 의 외부와 삼각형 $A_nC_nB_n$ 의 내부의 공통부분의 넓이를

S_n 이라 할 때, $\sum_{n=1}^{\infty} S_n$ 의 값은? [4점]



- ① $8\sqrt{3} - 3\pi$ ② $8\sqrt{3} - 2\pi$ ③ $9\sqrt{3} - 3\pi$
- ④ $9\sqrt{3} - 2\pi$ ⑤ $10\sqrt{3} - 3\pi$

27. 양수 x 에 대하여 $\log x$ 의 지표와 가수를 각각 $f(x)$, $g(x)$ 라 하자. $\{f(x)\}^2 + 3g(x)$ 의 값이 3이 되도록 하는 모든 x 의 값의 곱은 $10^{\frac{q}{p}}$ 이다. $10(p+q)$ 의 값을 구하시오. (단, p , q 는 서로소인 자연수이다.) [4점]

4월 교육청 : A형 응시자도 풀어야 하는 B형 문항 정답 및 해설

12. [출제의도] 함수의 연속성 추론하기

ㄱ. $\lim_{x \rightarrow +0} f(x) = -2$,
 $\lim_{x \rightarrow +0} f(-x) = \lim_{x \rightarrow -0} f(x) = 2$
 $\therefore \lim_{x \rightarrow +0} \{f(x) + f(-x)\} = -2 + 2 = 0$ (참)

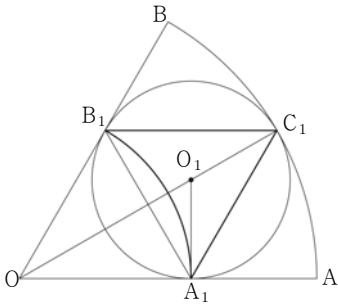
ㄴ. $f(x) = t$ 라 하면 $x \rightarrow 1+0$ 일 때 $t \rightarrow -1+0$
 $\therefore \lim_{x \rightarrow 1+0} f(f(x)) = \lim_{t \rightarrow -1+0} f(t) = 0$ (거짓)

ㄷ. $\lim_{x \rightarrow 1+0} \{f(x-1)\}^2 = \lim_{x \rightarrow +0} \{f(x)\}^2$
 $= (-2)^2 = 4$
 $\lim_{x \rightarrow 1-0} \{f(x-1)\}^2 = \lim_{x \rightarrow -0} \{f(x)\}^2$
 $= 2^2 = 4$
 $\{f(1-1)\}^2 = \{f(0)\}^2 = 2^2 = 4$
 \therefore 함수 $\{f(x-1)\}^2$ 은 $x=1$ 에서 연속이다. (참)

따라서 옳은 것은 ㄱ, ㄷ

18. [출제의도] 무한급수를 활용하여 추론하기

부채꼴 OAB에서 원 O_1 의 중심을 O_1 이라 하자.



$\overline{OA_1} = \overline{OB_1}$ 이고 $\angle AOB = \frac{\pi}{3}$ 이므로

삼각형 OA_1B_1 은 정삼각형이다.

직선 OC_1 은 점 O_1 을 지나므로

$\angle O_1OA_1 = \frac{\pi}{6}$ 이다.

원 O_1 의 반지름의 길이를 a 라 하면

$\overline{OA_1} = \sqrt{3}a$, $\overline{OO_1} = 2a$, $\overline{O_1C_1} = a$ 이므로

$\overline{OC_1} = 3a = 6$, $a = 2$ 이고

$\overline{OA_1} = 2\sqrt{3}$, $\overline{A_1C_1} = \overline{B_1C_1} = \overline{B_1A_1} = 2\sqrt{3}$

이다.

▽모양의 도형 $A_1C_1B_1$ 의 넓이는

두 정삼각형 OA_1B_1 , $A_1C_1B_1$ 의 넓이의 합에서

부채꼴 OA_1B_1 의 넓이를 뺀 것과 같으므로

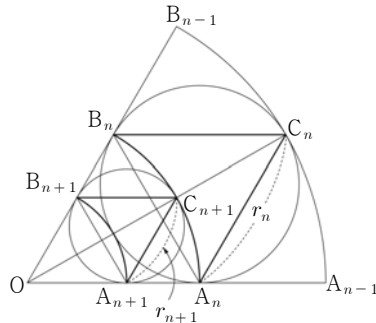
$\therefore S_1 = 2 \times \frac{\sqrt{3}}{4} \times (2\sqrt{3})^2 - \frac{1}{2} \times (2\sqrt{3})^2 \times \frac{\pi}{3}$
 $= 6\sqrt{3} - 2\pi$

부채꼴 $OA_{n-1}B_{n-1}$ 에 내접하는 원 O_n 이

두 선분 OA_{n-1} , OB_{n-1} , 호 $A_{n-1}B_{n-1}$ 과

만나는 점을 각각 A_n , B_n , C_n 이라 하자.

(단, $A_0 = A$, $B_0 = B$ 이다.)



▽모양의 도형 $A_nC_nB_n$ 과

도형 $A_{n+1}C_{n+1}B_{n+1}$ 에서

$\overline{A_nC_n} = r_n$, $\overline{A_{n+1}C_{n+1}} = r_{n+1}$ 이라 하자.

$\overline{OC_{n+1}} = \overline{OA_n} = r_n$ 이고 $\overline{OA_{n+1}} = r_{n+1}$ 이므로

삼각형 $OA_{n+1}C_{n+1}$ 에서

$\angle OA_{n+1}C_{n+1} = \frac{2}{3}\pi$ 이므로

코사인법칙에 의하여 $r_n^2 = r_{n+1}^2 + r_{n+1}^2 - 2r_{n+1}^2 \cos \frac{2}{3}\pi$

$r_n^2 = 3r_{n+1}^2$, $r_{n+1} = \frac{1}{\sqrt{3}}r_n$

두 도형의 넓음비가 $\frac{1}{\sqrt{3}}$ 이므로 넓이의 비는 $\frac{1}{3}$ 이다.

그러므로 수열 $\{S_n\}$ 은 첫째항이 $6\sqrt{3} - 2\pi$ 이고

공비가 $\frac{1}{3}$ 인 등비수열이다.

따라서 $\sum_{n=1}^{\infty} S_n = \frac{6\sqrt{3} - 2\pi}{1 - \frac{1}{3}} = 9\sqrt{3} - 3\pi$

27. [출제의도] 지표와 가수의 성질을 활용하여 문제해결하기

$\{f(x)\}^2 + 3g(x) = 3$ 에서

$g(x) = \frac{3 - \{f(x)\}^2}{3}$ 이고 $0 \leq g(x) < 1$ 이므로

$0 \leq \frac{3 - \{f(x)\}^2}{3} < 1$

$0 < \{f(x)\}^2 \leq 3$

$\therefore f(x) = 1$ 또는 $f(x) = -1$

i) $f(x) = 1$ 일 때

$g(x) = \frac{2}{3}$ 이므로 $\log x = \frac{5}{3}$ $\therefore x = 10^{\frac{5}{3}}$

ii) $f(x) = -1$ 일 때

$g(x) = \frac{2}{3}$ 이므로 $\log x = -\frac{1}{3}$ $\therefore x = 10^{-\frac{1}{3}}$

i), ii)에 의하여 $x = 10^{\frac{5}{3}}$ 또는 $x = 10^{-\frac{1}{3}}$

모든 x 의 값의 곱은 $10^{\frac{4}{3}}$

따라서 $p = 3$, $q = 4$ 이고 $10(p+q) = 70$